


تلاشی در مسیر موفقیت



- دانلود گام به گام تمام دروس ✓
- دانلود آزمون های قلم چی و گاج + پاسخنامه ✓
- دانلود جزوه های آموزشی و شب امتحانی ✓
- دانلود نمونه سوالات امتحانی ✓
- مشاوره کنکور ✓
- فیلم های انگیزشی ✓

 [www.ToranjBook.Net](http://www.ToranjBook.Net)

 [ToranjBook\\_Net](https://t.me/ToranjBook_Net)



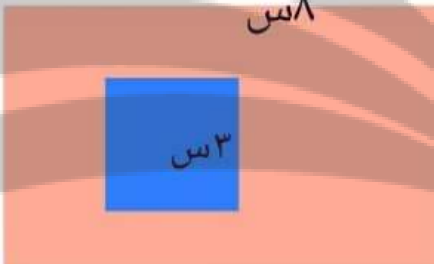

 [ToranjBook\\_Net](https://www.instagram.com/ToranjBook_Net)

شهر درگز

دبستان غیردولتی اختران.

آزمون ریاضی پایه سوم  
خانم جوانبخت

ردیف ۱	رابطه ی بین عددها را پیداکن والگو را ادامه بده. ..... - ..... - ..... - ۱۵۰ - ۱۰۰ - ۵۰ ..... - ..... - ۴۵۲ - ۳۴۱ - ۲۳۰										
۲	جاهای خالی را باکلمات مناسب پر کنید. حالا اندازه ی دور هر شکل را ..... می نامند. حالا هر دایره ..... خط تقارن دارد.										
۳	عدد زیر را به صورت گسترده (بازشده) بنویس. ۳۰۰۵ = .....										
۴	با توجه به عدد «شش هزار و هشتاد و سه» به سوالات زیر پاسخ کامل دهید. الف) کدام رقم در مرتبه ی صدگان قرار دارد؟ ..... ب) ارزش مکانی رقم ۸ چیست؟ ..... ج) عدد را با رقم بنویسد .....										
۵	برای کسر زیر یک شکل بکش . $\frac{3}{5}$										
۶	حاصل ضرب عدد زیر را با استفاده از محور به دست بیاور. $6 \times 3 = \dots\dots\dots$										
۷	با کمک ضرب محیط شکل زیر را پیدا کن. (اندازه ی هر ضلع ۴ س) 										
۸	حاصل جمع عدد زیر را به صورت فرایندی (طولانی) به دست بیاور. $\begin{array}{r} 4 \quad 3 \quad 7 \\ + 5 \quad 2 \quad 1 \\ \hline \end{array}$										
۹	اطلاعات جدول را به صورت نمودار ستونی نمایش بده. <table border="1" data-bbox="714 1575 1274 1669"> <tr> <td>بار کلاس اول (بسر مهر دریا)</td> <td>سوم آلف</td> <td>سوم ب</td> <td>چهارم آلف</td> <td>چهارم ب</td> </tr> <tr> <td>جمعیت کلاس</td> <td>۴۰ نفر</td> <td>۳۵ نفر</td> <td>۳۰ نفر</td> <td>۲۰ نفر</td> </tr> </table>	بار کلاس اول (بسر مهر دریا)	سوم آلف	سوم ب	چهارم آلف	چهارم ب	جمعیت کلاس	۴۰ نفر	۳۵ نفر	۳۰ نفر	۲۰ نفر
بار کلاس اول (بسر مهر دریا)	سوم آلف	سوم ب	چهارم آلف	چهارم ب							
جمعیت کلاس	۴۰ نفر	۳۵ نفر	۳۰ نفر	۲۰ نفر							
۱۰	حاصل ضرب عبارت های زیر را بنویس. $100 \times 3 = \dots\dots\dots$ $20 \times 40 = \dots\dots\dots$ $6 \times \dots\dots = 600$ $5 \times 4 = \dots\dots\dots$ $2 \times 20 \times 20 = \dots\dots\dots$										

$48 \div \square = 8$ 	$72 \div 9 = \square$ $24 \overline{) 3}$	$36 \div 6 = \square$ $48 \overline{) 5}$	۱۱ تقسیم های زیر را انجام بده.
مساحت زمینی که طول آن ۳۸ متر و عرض آن ۵۱ متر است، به طور تقریبی چند متر مربع است؟			۱۲ 
من چه عددی هستم؟ عددی دورقمی هستم که اگر با خودم جمع شوم و از حاصل جمع ۲ تا کم شود، باقی مانده ۲۰ می شود. $\square + \square = \square - 2 = 20$			۱۳
مساحت مربعی که طول هر ضلع آن ۲۰ سانتی متر است را به دست بیاور. 			۱۴
	مساحت قسمت نارنجی رنگ را حساب کنید. ۶س		۱۵
بارقم های ۴ و ۵ و ۲ و ۶ بزرگ ترین و کوچک ترین عدد چهار رقمی را بنویس. ب: <span style="border: 1px solid red; border-radius: 50%; padding: 2px;">۶</span> ک: <span style="border: 1px solid red; border-radius: 50%; padding: 2px;">۴</span> اختلاف این دو عدد را پیدا کن.			۱۶
نازنین می خواهد دور تا دور یک رومیزی به طول ۳۵۰ سانتی متر و به عرض ۱۸۰ سانتی متر تور بدوزد. او به چند متر تور نیاز دارد؟ 			۱۷
زندگی ریاضی است ابدی هارا کم کنیم - خوبی هارا جمع کنیم + شادی هارا ضرب کنیم * و غصه هارا تقسیم کنیم ÷			**


تلاشی در مسیر موفقیت



- دانلود گام به گام تمام دروس ✓
- دانلود آزمون های قلم چی و گاج + پاسخنامه ✓
- دانلود جزوه های آموزشی و شب امتحانی ✓
- دانلود نمونه سوالات امتحانی ✓
- مشاوره کنکور ✓
- فیلم های انگیزشی ✓

 [www.ToranjBook.Net](http://www.ToranjBook.Net)

 [ToranjBook\\_Net](https://t.me/ToranjBook_Net)

 [ToranjBook\\_Net](https://www.instagram.com/ToranjBook_Net)