


تلاشی در مسیر موفقیت






- دانلود گام به گام تمام دروس ✓
- دانلود آزمون های قلم چی و گاج + پاسخنامه ✓
- دانلود جزوه های آموزشی و شب امتحانی ✓
- دانلود نمونه سوالات امتحانی ✓
- مشاوره کنکور ✓
- فیلم های انگیزشی ✓

 www.ToranjBook.Net

 [ToranjBook_Net](https://t.me/ToranjBook_Net)

 [ToranjBook_Net](https://www.instagram.com/ToranjBook_Net)

به نام خدا	
پایه ی سوم	نام و نام خانوادگی:
وقت:	نام پدر:
نوبت دوم	
۱	<p>۱ با عدد و با حروف بنویسید .</p> <p>۴۵۰۳۹۶.....</p> <p>سیصد و چهل و نه هزار و سه</p>
۲	<p>۲ در جاهای خالی عدد مناسب بنویسید.</p> <p>۸ کیلومتر برابر است با متر .</p> <p>۳ کیلوگرم برابر است با گرم</p> <p>عدد ۹۰۶۴ برابر است با یکی و ده تایی و صد تایی و هزار تایی</p> <p>۵ متر برابر است با میلیمتر</p> <p>۹ سانتی متر برابر است با میلیمتر</p>
۱/۲۵	<p>۳ علامت < = > بگذارید .</p> <p>$\frac{1}{5} \bigcirc \frac{1}{6}$ $\frac{2}{6} \bigcirc \frac{3}{6}$</p> <p>$401 - 600 \bigcirc 201 - 500$ $78 + 610 \bigcirc 169 - 875$ $4 \times 6 \bigcirc 5 \times 4$</p>
۱	<p>۴ با رقم های (۵ ، ۴ ، ۰ ، ۲) بزرگترین و کوچکترین عدد چهار رقمی بنویس .</p> <p>بزرگترین : <input type="text"/></p> <p>کوچکترین : <input type="text"/></p>
۲/۲۵	<p>۵ برای شکل رو به رو یک شرب و دو تقسیم بنویسید .</p> <p>  </p> <p>شرب : <input type="text"/></p> <p>تقسیم : <input type="text"/></p>
۲/۵	<p>۶ عملیات زیر را انجام دهید .</p> <p>$362 \times 5 =$ $18 + 6 =$ $9 \times 0 =$ $5 + 5 =$</p> <p>$6 \times 8 =$ $7 + 1 =$ $0 + 3 =$</p> <p>$5 \times 9 =$ $17 \times 100 =$</p>

۶	یک خط متقاطع و یک خط موازی رسم کنید.
۰/۵	چه گسری از شکل رنگی است.
۰/۵	کدام یک از شکل های زیر خط تقارن ندارد.
۱/۷۵	مساحت شکل رو به رو را بدست آورید.
۱/۲۵	شکل زیر چند ضلعی است. محیط آن را بدست آورید.
۱	زنگ مدرسه ایی ساعت ۵ بعد از ظهر می خورد. در چه ساعتی زنگ می خورد؟
۱	برای خرید ۹ ورق کاغذ ۴۵ تومان پول داده ایم. کاغذ ورقی چند تومان بوده است.
۱	کلاسی ۳۲ نفر دانش آموز دارد. هر کدام ۳ جلد کتاب به کتابخانه هدیه کرده اند. این دانش آموزان چند جلد کتاب به مدرسه هدیه کرده اند؟
۰/۵	ساعت رو به رو چه ساعتی را نشان می دهد؟
۱/۵	تقسیم های زیر را انجام دهید و خارج قسمت و باقیمانده را بنویسید.
	$\begin{array}{r} ۳۹ \overline{) ۷} \\ \underline{} \\ \end{array}$ <p>خارج قسمت: باقیمانده:</p>
	$\begin{array}{r} ۸۲ \overline{) ۹} \\ \underline{} \\ \end{array}$ <p>خارج قسمت: باقیمانده:</p>

موفق باشید

تلاشی در مسیر موفقیت


تلاشی در مسیر موفقیت



- دانلود گام به گام تمام دروس ✓
- دانلود آزمون های قلم چی و گاج + پاسخنامه ✓
- دانلود جزوه های آموزشی و شب امتحانی ✓
- دانلود نمونه سوالات امتحانی ✓
- مشاوره کنکور ✓
- فیلم های انگیزشی ✓

 www.ToranjBook.Net

 [ToranjBook_Net](https://t.me/ToranjBook_Net)

 [ToranjBook_Net](https://www.instagram.com/ToranjBook_Net)