


تلاشی در مسیر موفقیت



- دانلود گام به گام تمام دروس ✓
- دانلود آزمون های قلم چی و گاج + پاسخنامه ✓
- دانلود جزوه های آموزشی و شب امتحانی ✓
- دانلود نمونه سوالات امتحانی ✓
- مشاوره کنکور ✓
- فیلم های انگیزشی ✓

 www.ToranjBook.Net

 [ToranjBook_Net](https://t.me/ToranjBook_Net)

 [ToranjBook_Net](https://www.instagram.com/ToranjBook_Net)



مدت آزمون: ۶۰ دقیقه
تاریخ:

اداره آموزش و پرورش استان
خراسان جنوبی
اداره آموزش و پرورش بیرجند

نام و نام خانوادگی:
دبستان: پسرانه سما دوره اول

(۱) حاصل عبارت های زیر را بنویس.

$$(3 \times 6) + (4 \times 4) = \underline{\quad} + \underline{\quad}$$

$$(8 \times 5) - (6 \times 5) = \underline{\quad} + \underline{\quad}$$

$$6 \times \dots = 600$$

$$20 \times 20 \times 20 =$$

$$20 \times 40 =$$

$$\begin{array}{r} 49 \\ \times 5 \\ \hline \end{array}$$

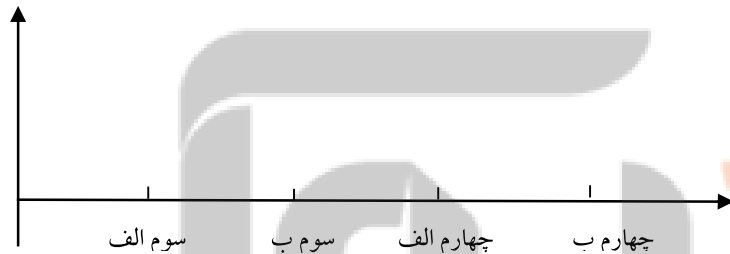
$$\begin{array}{r} 253 \\ \times 2 \\ \hline \end{array}$$

(۲) حاصل جمع عدد زیر را به صورت فرآیندی (طولانی) به دست آور.

$$\begin{array}{r} 437 \\ + 521 \\ \hline \end{array}$$

(۳) اطلاعات جدول را به صورت نمودار ستونی نمایش بده.

نام کلاس	سوم الف	سوم ب	چهارم الف	چهارم ب
جمعیت کلاس	۴۰ نفر	۳۵ نفر	۳۰ نفر	۲۰ نفر



(۴) مساحت مربعی که طول هر ضلع آن ۲۰ سانتی متر است را به دست آورید.

(۵) نازنین می خواهد دور تا دور یک رومیزی به طول ۳۵۰ سانتی متر و به عرض ۱۸۰ سانتی متر تور بدوزد او به چند متر تور نیاز دارد؟

(۶) با رقم های ۴، ۵، ۲، ۶ بزرگ ترین و کوچک ترین عدد چهار رقمی را بنویس.

اختلاف این دو عدد را پیدا کن.

خودسنجی:

والدین سنجی:


تلاشی در مسیر موفقیت



- دانلود گام به گام تمام دروس ✓
- دانلود آزمون های قلم چی و گاج + پاسخنامه ✓
- دانلود جزوه های آموزشی و شب امتحانی ✓
- دانلود نمونه سوالات امتحانی ✓
- مشاوره کنکور ✓
- فیلم های انگیزشی ✓

 www.ToranjBook.Net

 [ToranjBook_Net](https://t.me/ToranjBook_Net)

 [ToranjBook_Net](https://www.instagram.com/ToranjBook_Net)