


تلاشی در مسیر موفقیت



- دانلود گام به گام تمام دروس ✓
- دانلود آزمون های قلم چی و گاج + پاسخنامه ✓
- دانلود جزوه های آموزشی و شب امتحانی ✓
- دانلود نمونه سوالات امتحانی ✓
- مشاوره کنکور ✓
- فیلم های انگیزشی ✓

 [www.ToranjBook.Net](http://www.ToranjBook.Net)



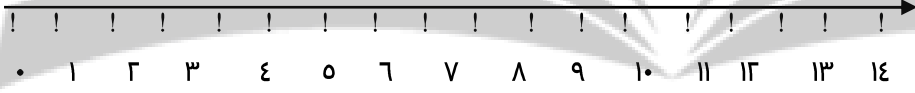


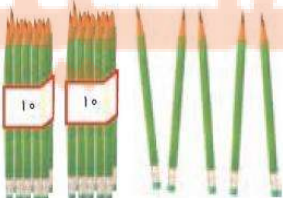
 [ToranjBook\\_Net](https://t.me/ToranjBook_Net)

 [ToranjBook\\_Net](https://www.instagram.com/ToranjBook_Net)

نام:	«به نام دانای هستی بخش»	سال تحصیلی:
نام خانوادگی:		تاریخ:
پایه: دوم ابتدایی		نوبت: سطح <input type="checkbox"/> کلاسی <input type="checkbox"/> اول <input type="checkbox"/>
نام درس: ریاضی		دوم <input type="checkbox"/>
		زمان: ۴۵ دقیقه

## آزمون فصل اول ریاضی

ردیف

۱	<p>عددهای زیر را به رقم یا حروف بنویس.</p> <p>شصت و پنج  ..... ۴۱</p> <p>هفتاد و سه  ..... ۸۰</p>				
۲	<p>عدد ۳۲ چند رقم دارد؟ .....</p> <p>رقم های آن را نام ببر. .... و .....</p> <p>با رقم های آن چند عدد دو رقمی دیگر می توانی بنویسی. ....</p>				
۳	<p>حاصل عبارت رو به رو را با استفاده از محور به دست بیاور.</p> <p><math>9 + 5 - 3 =</math></p> 				
۴	<p>با رقم های « ۳ و ۶ و ۰ » چند عدد دو رقمی می توانی بسازی بنویس.</p> <p>.....</p>				
۵	<p>با دو کارت  و  چند عدد دو رقمی می توانی بسازی بنویس.</p> <p>.....</p>				
۶	<p>عبارت های زیر را به صورت ذهنی انجام بده.</p> <p><math>5 + 10 + 5 + 10 =</math></p> <p><math>3 + 2 + 20 + 10 + 20 =</math></p>				
۷	<p>عدد مربوط به هر شکل را در جدول بنویس و جای خالی را کامل کن.</p> <p>با عدد: .....</p> <p>با حروف: .....</p>  <table border="1" data-bbox="483 1801 651 1934"> <tr> <td>یکی</td> <td>ده تایی</td> </tr> <tr> <td> </td> <td> </td> </tr> </table>	یکی	ده تایی		
یکی	ده تایی				
۸	<p>الگوها را ادامه بده.</p> <p>۱۵ - ۲۰ - - - -</p> <p>۶۷ - ۷۰ - ۷۳ - - -</p>				

۹ پدر علی ماهیگیر است . او دیروز ۲۵ ماهی و امروز ۲۰ ماهی صید کرده است . پدر علی چند ماهی صید کرده است ؟

۱۰ مریم ۶ گل قرمز و ۹ گل زرد داشت . ۱۲ تا از گل ها را به دوستانش داد و بقیه را در گلدان گذاشت . مریم چند گل در گلدان گذاشته است ؟  
« از شکل برای حل مساله استفاده کن »

خسته نباشی دلبندم



نزدیک بوبک  
تلاشی در مسیر موفقیت

تلاشی در مسیر موفقیت



- دانلود گام به گام تمام دروس ✓
- دانلود آزمون های قلم چی و گاج + پاسخنامه ✓
- دانلود جزوه های آموزشی و شب امتحانی ✓
- دانلود نمونه سوالات امتحانی ✓
- مشاوره کنکور ✓
- فیلم های انگیزشی ✓

 [www.ToranjBook.Net](http://www.ToranjBook.Net)

 [ToranjBook\\_Net](https://t.me/ToranjBook_Net)

 [ToranjBook\\_Net](https://www.instagram.com/ToranjBook_Net)