

تلاشی در مسیر موفقیت



- دانلود گام به گام تمام دروس ✓
- دانلود آزمون های قلم چی و گاج + پاسخنامه ✓
- دانلود جزوه های آموزشی و شب امتحانی ✓
- دانلود نمونه سوالات امتحانی ✓
- مشاوره کنکور ✓
- فیلم های انگیزشی ✓

 www.ToranjBook.Net

 [ToranjBook_Net](https://www.toranjbook.net)

 [ToranjBook_Net](https://www.toranjbook.net)

نام و نام خانوادگی:

به نام خدا

آزمون مداد کاغذی ریاضی

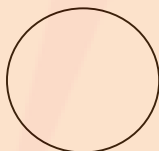
۱- نام شکل های زیر را بنویس.



.....



.....



.....



.....

۲- عزیزم به دو شکل زیر با دقت نگاه کن و شباهت ها و تفاوت های هر کدام را بنویس.



شباهت ها:.....

.....

تفاوت ها:.....

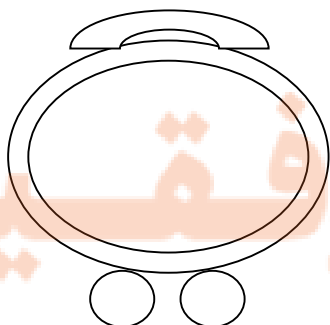
۳- با استفاده از شابلون یک شکل بکش که ۶ گوشه داشته باشد.

۴- در هر شکل زیر خط «م» ، «د» چه نام دارد . و گوشه های شکل زیر را با مداد قرمز مشخص کن.

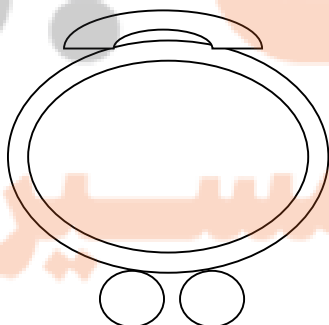


نام خط:.....


۵- عقربه های هر ساعت را بکش.



یک ربع مانده به ساعت ۱۰

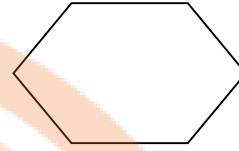
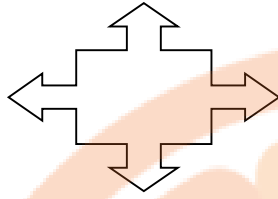


ساعت ۵ و نیم



ساعت ۷ و ۴۲ دقیقه

۶- با کشیدن ۲ خط هر شکل را به ۴ قسمت مثل هم تقسیم کن.

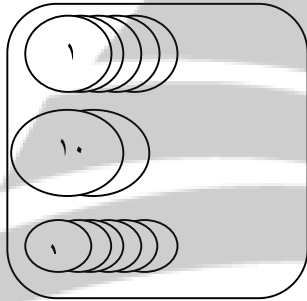


۷- با استفاده از ساعت آموزشی به سوالات زیر پاسخ بده.

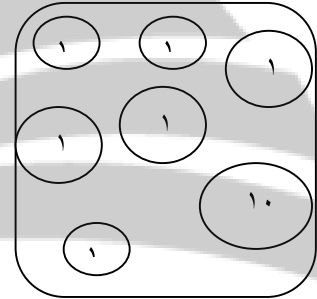
یک ربع بعد از ساعت ۱۰ و ۲۰ دقیقه

یک ساعت و نیم قبل از ساعت ۲

۸- در هر کادر چند ریال سکه وجود دارد؟



ریال.....



ریال.....

۹- جاهای خالی را پر کن.

۷ سکه ۱ ریالی چند ریال می شود؟

۵ سکه ۱۰ ریالی چند سکه ۱ ریالی می شود؟

۱۰- جمع و تفریق های زیر را کامل کن.

$100 - 50 =$

$100 - 20 =$

$50 + 50 =$

$30 + 70 =$

۱۱- رضا برای خرید گل ۷ سکه ۱۰ ریالی و ۵ سکه ۱ ریالی به گل فروش داد. او چه قدر پول داد؟

« پیروز و موفق باشید »

آموزگار مربوطه: نرگس اکبرنژاد ساروی


تلاشی در مسیر موفقیت



- دانلود گام به گام تمام دروس ✓
- دانلود آزمون های قلم چی و گاج + پاسخنامه ✓
- دانلود جزوه های آموزشی و شب امتحانی ✓
- دانلود نمونه سوالات امتحانی ✓
- مشاوره کنکور ✓
- فیلم های انگیزشی ✓

 www.ToranjBook.Net

 [ToranjBook_Net](https://t.me/ToranjBook_Net)

 [ToranjBook_Net](https://www.instagram.com/ToranjBook_Net)