

تلاشی در مسیر موفقیت



- دانلود گام به گام تمام دروس ✓
- دانلود آزمون های قلم چی و گاج + پاسخنامه ✓
- دانلود جزوه های آموزشی و شب امتحانی ✓
- دانلود نمونه سوالات امتحانی ✓
- مشاوره کنکور ✓
- فیلم های انگیزشی ✓

 [www.ToranjBook.Net](http://www.ToranjBook.Net)

 [ToranjBook\\_Net](https://t.me/ToranjBook_Net)

 [ToranjBook\\_Net](https://www.instagram.com/ToranjBook_Net)

نام و نام خانوادگی :

به نام خدا

تاریخ : / / ۱۳۹۶

آزمون مداد کاغذی ریاضی ( فصل اندازه گیری ) نام آموزگار: نرگس اکبرنژاد

۱- عزیزم به سوالات زیر با دقت پاسخ بده .

برای این که اندازه گیری دقیق باشد باید از کدام یک از وسایل زیر استفاده کرد ؟

☆  خط کش    ☆  نوار کاغذی که خودمان ساختیم    ☆  قدم    ☆  وجب

واحد های اندازه گیری که در خط کش و متر خیاطی استفاده می شود ..... و ..... نام دارد .

☆  سانتی متر و میلی متر    ☆  سانتی گراد و فارنهایت    ☆  کیلو متر و متر

۲- نازنینم جاهای خالی را کامل کن .

۱۵ میلی متر همان ..... سانتی متر و ..... میلی متر است .

۴ سانتی متر و ۲ میلی متر همان ..... میلی متر است .


۳- مربعی رسم کن که یک ضلع آن ۳ سانتی متر باشد و سپس مجموع ضلع های آن را به دست بیاور .

۴- گل نازم در کادر زیر :

با مداد قرمز خطی بکش که ۳ سانتی متر باشد .

با مداد آبی خطی بکش که ۵ سانتی متر و ۶ میلی متر باشد.

۵- اندازه ی دقیق خط های زیر را کنار شان بنویس .




۶- در جاهای خالی عدد مناسب بنویس .

$$۲۳ + \bigcirc = ۵۶$$

$$\bigcirc - ۲۰ = ۳۲$$

$$۲۵ + \bigcirc = ۵۰$$

۷- عزیزم با توجه به عقربه ی بزرگ ساعت بنویس عقربه ی بزرگ چند دقیقه حرکت کند تا ساعت ۲ و نیم شود؟ عقربه ی بزرگ روی ۹ قرار دارد.



۸- مزرعه داری در مزرعه ی خود ۵ گوسفند و مرغ داشت آن ها روی هم ۱۸ پا داشتند .

الف ) مشخص کن مزرعه دار چند گوسفند و مرغ دارد .

ب) روزی گرگ به مزرعه حمله کرد و یکی از این حیوانات را برد حالا آن ها روی هم ۱۴ پا دارند حدس بزن گرگ گوسفند را برده یا مرغ ؟

بازخورد آموزگار:.....

تلاشی در مسیر موفقیت


تلاشی در مسیر موفقیت



- دانلود گام به گام تمام دروس ✓
- دانلود آزمون های قلم چی و گاج + پاسخنامه ✓
- دانلود جزوه های آموزشی و شب امتحانی ✓
- دانلود نمونه سوالات امتحانی ✓
- مشاوره کنکور ✓
- فیلم های انگیزشی ✓

 [www.ToranjBook.Net](http://www.ToranjBook.Net)

 [ToranjBook\\_Net](https://t.me/ToranjBook_Net)

 [ToranjBook\\_Net](https://www.instagram.com/ToranjBook_Net)