


تلاشی در مسیر موفقیت




- دانلود گام به گام تمام دروس ✓
- دانلود آزمون های قلم چی و گاج + پاسخنامه ✓
- دانلود جزوه های آموزشی و شب امتحانی ✓
- دانلود نمونه سوالات امتحانی ✓
- مشاوره کنکور ✓
- فیلم های انگیزشی ✓

 www.ToranjBook.Net

 [ToranjBook_Net](https://t.me/ToranjBook_Net)


 [ToranjBook_Net](https://www.instagram.com/ToranjBook_Net)

	وقت آزمون: ۱۲۰ دقیقه	بسمه تعالی اداره کل آموزش و پرورش خراسان شمالی اداره سنجش آموزش و پرورش مدیریت آموزش و پرورش شهرستان مانه و سملقان نوبت دوم-اردیبهشت ماه ۱۴۰۰	دبستان غیردولتی مهروماه
	ساعت برگزاری:		نام و نام خانوادگی:
	تاریخ امتحان		سوالات درس: ریاضی
	تعداد سوال: ۱۳ سوال		پایه: دوم
صفحه تعداد ۳ صفحه			

ما بر آنیم تا فرزندان شما فرزندان دانش و ادب شوند.

بارم	شرح سوال	ردیف
------	----------	------

۱- در شکل های زیر دسته ی ده تایی جدا و سپس جدول را کامل کنید.

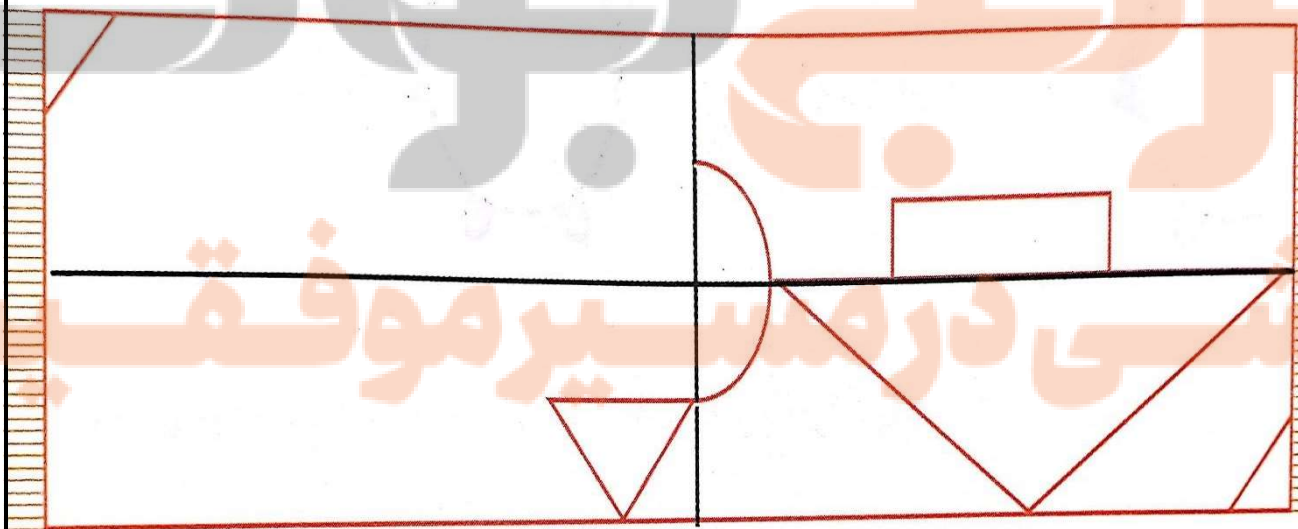


۲- رو به عقب بشمارید و الگو را کامل کنید.

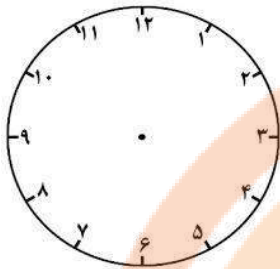
۳۵ - ۴۰ - - - -
 ۲۷ - ۲۳ - - - -

۳- حمید در یک ظرف ۱۰ میوه دارد که ۵ تا از آن ها موز و بقیه خیار هستند. حمید چند خیار دارد؟ (با شکل)

۴- با استفاده از خط تقارن فرش را کامل و به دلخواه رنگ آمیزی کنید.



۵- فرید ساعت ۵:۳۰ دقیقه به کتاب خانه رسید و ۴ ساعت در آنجا مطالعه کرد روی ساعت نشان بده که وقتی از کتاب خانه برمی گشت ساعت چند است؟



۶- جاهای خالی را کامل کنید.

*کوچک ترین عدد یک رقمی و بزرگ ترین عدد یک رقمی است

*یک عدد دورقمی از یک عدد یک رقمی است

*تعداد نیمکت های کلاس از تعداد صندلی های خانه است.

*۴ دسته ی ۱۰۰ تایی می شود

*اگر علی ۱۰ سکه ی ۱۰ ریالی به بانک بدهد بانک باید به او چه سکه ای بدهد؟

*عدد ۳۳ به ۳۰ نزدیک تر است یا به؟



*عدد ۱۸ به نزدیک تر است یا به؟

*اندازه ی طول یک سنجاق ۹۴ میلی متر است یعنی سانتی متر و میلی متر

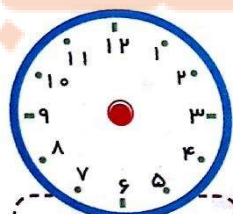
۷- حاصل جمع و تفریق ها را به دست آور . (روش فرآیندی)

$\begin{array}{r} 35 \\ + 41 \\ \hline \end{array}$	$\begin{array}{r} 68 \\ - 54 \\ \hline \end{array}$	$\begin{array}{r} 95 \\ - 78 \\ \hline \end{array}$	$\begin{array}{r} 59 \\ + 47 \\ \hline \end{array}$
---	---	---	---

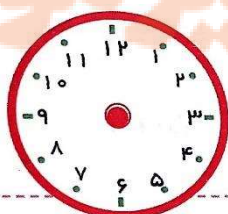
۸- شکل های زیر را با یک خط به دو قسمت مساوی تقسیم کنید.



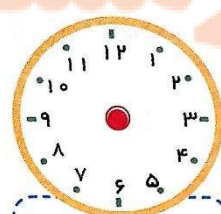
۹- ساعت های زیر را با رسم عقربه های کوچک و بزرگ کامل کنید.



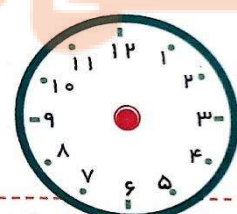
۶:۱۵



یک ربع مانده به ۷




دو و ده



۲۰ دقیقه از ۵ گذشته

۱۰- در یک پارکینگ ۵ تا ماشین سواری و موتور وجود دارد. که روی هم ۱۶ چرخ دارند در این پارکینگ چند تا ماشین سواری و چند موتور وجود داد؟



تعداد چرخ ها و **حس اول**


تعداد چرخ ها و **حس دوم**

۱۱- جمع و تفریق های زیر را انجام بدهید.

تکنیکی	فرآیندی	فرآیندی	تکنیکی	تکنیکی	تکنیکی
۲۵۱	۸۷۸	۲۵۳	۴۷۱	۹۸۲	۷۱۵
<u>+۴۳۸</u>	<u>-۳۲۴</u>	<u>+۴۳۹</u>	<u>+۳۹۹</u>	<u>-۴۴۴</u>	<u>-۲۹۸</u>

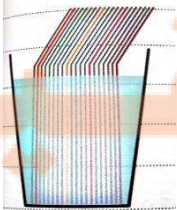
۱۲- به شکل های زیر نگاه کنید و برای آن جمع و یک عبارت ضرب بنویسید

..... دسته ی تایی می شود


..... دسته ی تایی می شود


..... دسته ی تایی می شود


۱۳- اگر در یک لیوان ۲۰ عدد نی رنگی باشد که ۵ تای آن ها رنگی باشد احتمال برداشتن نی رنگی چند به چند است؟



ارزشیابی:

نظر معلم:


تلاشی در مسیر موفقیت



- دانلود گام به گام تمام دروس ✓
- دانلود آزمون های قلم چی و گاج + پاسخنامه ✓
- دانلود جزوه های آموزشی و شب امتحانی ✓
- دانلود نمونه سوالات امتحانی ✓
- مشاوره کنکور ✓
- فیلم های انگیزشی ✓

 www.ToranjBook.Net

 [ToranjBook_Net](https://t.me/ToranjBook_Net)

 [ToranjBook_Net](https://www.instagram.com/ToranjBook_Net)