


تلاشی در مسیر موفقیت



- دانلود گام به گام تمام دروس ✓
- دانلود آزمون های قلم چی و گاج + پاسخنامه ✓
- دانلود جزوه های آموزشی و شب امتحانی ✓
- دانلود نمونه سوالات امتحانی ✓
- مشاوره کنکور ✓
- فیلم های انگیزشی ✓

 [www.ToranjBook.Net](http://www.ToranjBook.Net)


 [ToranjBook\\_Net](https://t.me/ToranjBook_Net)

 [ToranjBook\\_Net](https://www.instagram.com/ToranjBook_Net)

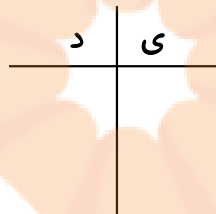
|                       |   |                         |
|-----------------------|---|-------------------------|
| وقت آزمون: ۱۲۰ دقیقه  | بسمه تعالی<br>اداره کل آموزش و پرورش خراسان شمالی<br>اداره سنجش آموزش و پرورش<br>مدیریت آموزش و پرورش شهرستان مانه و سملقان<br>نوبت دوم-اردیبهشت ماه ۱۴۰۰ | دبستان غیردولتی مهروماه |
|                       |   | نام و نام خانوادگی:     |
|                       |   | سوالات درس: ریاضی       |
| ساعت برگزاری: ۱۷ عصر  |   | پایه: دوم               |
| تاریخ امتحان: ۰۰/۲/۲۹ |   |                         |
| تعداد سوال: ۱۳ سوال   |   |                         |
| صفحه تعداد: ۳ صفحه    |   |                         |

ما بر آنیم تا فرزندان شما فرزندان دانش و ادب شوند.

|      |          |      |
|------|----------|------|
| بارم | شرح سوال | ردیف |
|------|----------|------|



۱- عزیزم تعداد ماشین ها را بشمار و به دسته های ده تایی جدا کن.



به عدد.....

به حروف.....

۲- الگوهای شمارش را، رو به عقب کامل کن.

..... ، ۴۰ ، ۴۵

..... ، ۲۴ ، ۲۷ ، ۳۰

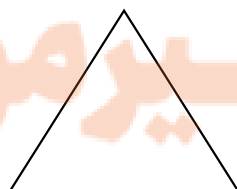
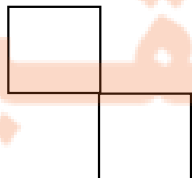
۳- اعداد را با حذف رقم یکان و دهگان به صورت تقریبی بنویسید سپس عددهای تقریبی را جمع و تفریق کنید.

$$\begin{array}{r} ۲۳۵ \longrightarrow \\ + ۳۲۳ \longrightarrow \\ \hline \end{array}$$

$$\begin{array}{r} ۵۴۱ \longrightarrow \\ - ۱۲۷ \longrightarrow \\ \hline \end{array}$$

$$\begin{array}{r} ۷۵۵ \longrightarrow \\ - ۴۵۹ \longrightarrow \\ \hline \end{array}$$

۴- با رسم برش های لازم ، شکل را به ۴ قسمت مساوی تقسیم کنید.



۵- سکه ها را بشمار و در جدول ارزش مکانی بنویس و تفریق کن.



| صدگان | دهگان | یکان |
|-------|-------|------|
|       |       |      |
| -     |       |      |

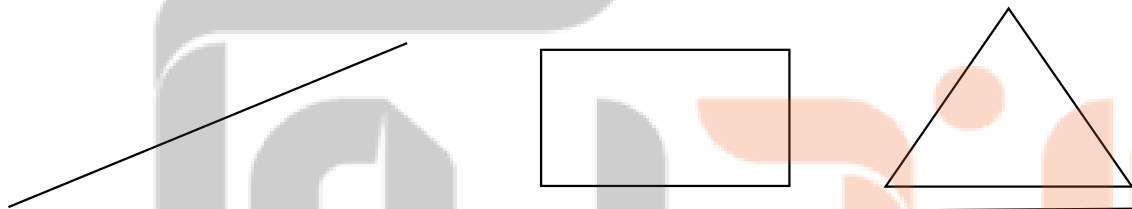
۶- یک کتاب داستان ۴۹۷ صفحه داشت. فاطمه در یک هفته ۱۶۰ صفحه و در هفته دوم ۱۳۰ صفحه خواند.

چند صفحه هنوز نخوانده است؟ (فرآیندی)


الف) چند صفحه خوانده شده است؟

ب) چند صفحه باقی مانده است؟

۷- خط ها و شکل های زیر را اندازه بگیر و روی هر کدام بنویس.



۸- تعداد هر قسمت را با کامل کردن جمله ها مشخص کنید.



..... تا ..... تایی می شود ..... تا ..... تایی می شود ..... تا ..... تایی می شود

۹- در یک مزرعه روی هم ۶ تا شتر مرغ و گوسفند هستند آن ها روی هم ۲۰ پا دارند. (هر شتر مرغ ۲ پا

و گوسفند ۴ پا دارد) در این مزرعه چند تا گوسفند و چند شتر مرغ است؟

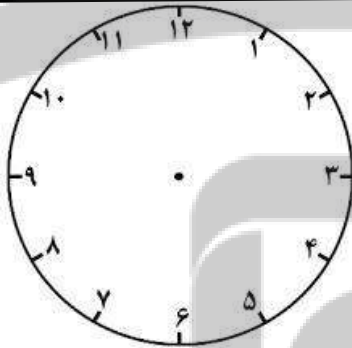
۱۰- جمع و تفریق های زیر را بنویس.

|  |  |  |  |
|--|--|--|--|
| <p>فراآیندی<br/>۶۸۳</p> <p>+ ۲۱۴</p> <hr/> | <p>تکنیکی<br/>۳۳۳</p> <p>+ ۲۲۳</p> <hr/> | <p>فراآیندی<br/>۷۵۶</p> <p>- ۲۴۶</p> <hr/> | <p>تکنیکی<br/>۹۶۳</p> <p>- ۷۴۲</p> <hr/> |
|--|--|--|--|

۱۱- جاهای خالی را پر کنید .

عدد ۳۸ را می توان به صورت ..... ده تایی و ..... قسمت از ۱۰ قسمت بیان کرد .  
 ۲۳ میلی متر یعنی ..... سانتی متر و ..... میلی متر  
 هر متر ..... سانتی متر است .  
 طول دفتر نقاشی من که به شکل مستطیل است ، ۱۸۷ ..... است .

۱۲- به سوال های زیر جواب دهید



الف) ۲۰ دقیقه بعد از ۷:۳۵ چه ساعتی است؟  
 ب) ۳۰ دقیقه بعد از ۱۰:۱۵ چه ساعتی است؟  
 پ) ۴۵ دقیقه بعد از ۳:۳۰ چه ساعتی است؟  
 ت) یک ربع مانده به ۱۰ چه ساعتی است ؟  
 ث) ساعت ۶:۳۰ دقیقه را می توانیم بگوییم ..... و .....

۱۳- جمله های زیر را کامل کنید.

|  |  |
|--|--|
|  | ..... قسمت از ..... قسمت مساوی بتغش است. |
|  | ..... قسمت از ..... قسمت مساوی زرد است.  |
|  | ..... قسمت از ..... قسمت مساوی قرمز است. |

ارزشیابی:

نظر معلم: .....




تلاشی در مسیر موفقیت



- دانلود گام به گام تمام دروس ✓
- دانلود آزمون های قلم چی و گاج + پاسخنامه ✓
- دانلود جزوه های آموزشی و شب امتحانی ✓
- دانلود نمونه سوالات امتحانی ✓
- مشاوره کنکور ✓
- فیلم های انگیزشی ✓

 [www.ToranjBook.Net](http://www.ToranjBook.Net)

 [ToranjBook\\_Net](https://www.toranjbook.net)

 [ToranjBook\\_Net](https://www.toranjbook.net)