


تلاشی در مسیر موفقیت



- دانلود گام به گام تمام دروس ✓
- دانلود آزمون های قلم چی و گاج + پاسخنامه ✓
- دانلود جزوه های آموزشی و شب امتحانی ✓
- دانلود نمونه سوالات امتحانی ✓
- مشاوره کنکور ✓
- فیلم های انگیزشی ✓

 www.ToranjBook.Net

 [ToranjBook_Net](https://t.me/ToranjBook_Net)

 [ToranjBook_Net](https://www.instagram.com/ToranjBook_Net)

به نام او

نام و نام خانوادگی:

۱- عددهای زیر را به حروف و رقم بنویسید.

۳۰۶ -----

----- پانصد و شصت

۸۴۸ -----

----- دویست و نود و شش

۲- الگوی عددی زیر را ادامه دهید.

۱ - ۲ - ۴ - ۷ - - -

۳- عددهای قبل و بعد عددهای زیر را بنویسید.

		۴۵۴			۴۵۸			
--	--	-----	--	--	-----	--	--	--

۴- حاصل جمع ها را پیدا کنید.

$$۳۰ + ۲۰ + ۳ + ۵ + ۵ + ۵ + ۱۰ = \boxed{}$$

$$۲۰ + ۳۵ + ۵ + ۷ = \boxed{}$$

۵- تفاوت و شباهت دو شکل مقابل را بنویسید



شباهت: -----

تفاوت: -----

۶- حاصل جمع و تفریق های زیر را به دست آورید.

$$\begin{array}{r} ۷۸ \\ +۱۹ \\ \hline \end{array}$$

$$\begin{array}{r} ۳۴ \\ +۲۵ \\ \hline \end{array}$$

$$\begin{array}{r} ۵۱ \\ +۳۰ \\ \hline \end{array}$$

$$\begin{array}{r} ۹۶ \\ -۲۳ \\ \hline \end{array}$$

$$\begin{array}{r} ۶۴ \\ -۳۸ \\ \hline \end{array}$$

$$\begin{array}{r} ۹۶ \\ + ۸ \\ \hline \end{array}$$

$$\begin{array}{r} ۱۰۵ \\ - ۷ \\ \hline \end{array}$$

۷- مجید ۹ سکه ۱۰ ریالی و ۵ سکه ۱ ریالی داشت. ۴ سکه ۱۰ ریالی به خواهرش داد چند ریال برایش باقی ماند؟

$$۸۰۰ - ۵۰۰ = \boxed{}$$

۸- به کمک محور تفریق زیر را انجام دهید.



تلاشی در مسیر موفقیت


۹- ابتدا عددها را با حذف یکان و دهگان به صورت تقریبی بنویسید سپس عددهای تقریبی را جمع یا تفریق کنید.

$$\begin{array}{r} ۲۳۸ \longrightarrow \dots\dots\dots \\ +۳۲۱ \longrightarrow + \dots\dots\dots \\ \hline \end{array} \qquad \begin{array}{r} ۴۲۵ \longrightarrow \dots\dots\dots \\ -۱۲۳ \longrightarrow - \dots\dots\dots \\ \hline \end{array}$$

۱۰- عددهای زیر را با توجه به عبارت بنویسید.

الف) ۹ دسته صدتایی و ۶ دسته ده تایی و ۳ یکی می شود:

ب) ۴ دسته صدتایی و ۵ دسته ده تایی و ۷ یکی می شود:




۱۱- ساعت چند است؟

یک ربع بعد از این ساعت چه ساعتی است؟

۱۲- زهرا ۹۸ امتیاز داشت به یک سوپاسخ درست داد و ۷ امتیاز گرفت حالا او چند امتیاز دارد؟

۱۳- با سه کارت ۳، ۶، ۹ تمام عددهای سه رقمی را که می توان ساخت، بنویسید.



۱۴- باز شده ی عددهای زیر را بنویس.

$$۱۲۳ = ۱۰۰ + ۲۰ + ۳$$


$$۷۶۸ =$$

$$۵۳۴ =$$

$$۹۰۱ =$$

$$۹۸۰ =$$

۱۵- مقدار پول هر قسمت را بنویس.




تلاشی در مسیر موفقیت



- دانلود گام به گام تمام دروس ✓
- دانلود آزمون های قلم چی و گاج + پاسخنامه ✓
- دانلود جزوه های آموزشی و شب امتحانی ✓
- دانلود نمونه سوالات امتحانی ✓
- مشاوره کنکور ✓
- فیلم های انگیزشی ✓

 www.ToranjBook.Net

 [ToranjBook_Net](https://t.me/ToranjBook_Net)

 [ToranjBook_Net](https://www.instagram.com/ToranjBook_Net)