


تلاشی در مسیر موفقیت



- دانلود گام به گام تمام دروس ✓
- دانلود آزمون های قلم چی و گاج + پاسخنامه ✓
- دانلود جزوه های آموزشی و شب امتحانی ✓
- دانلود نمونه سوالات امتحانی ✓
- مشاوره کنکور ✓
- فیلم های انگیزشی ✓

 www.ToranjBook.Net

 [ToranjBook_Net](https://www.toranjbook.net)

 [ToranjBook_Net](https://www.toranjbook.net)

به نام حق **آزمون پایانی ریاضی** پایه : دوم کلاس : دوم دبستان :
 نام و نام خانوادگی : معلم مربوطه :
 مورخه /

۱- نوشتن عدد را ادامه بدهید؟

سی صدو یک - سی صدو دو - سی صدو هشت
 ۱۰ - ۲۰ - ۴۰ - ۸۰

۲- با رقم های ۳، ۹، ۸ تا می توانید عددهای سه رقمی بنویسید.

۳- با استفاده از محور اعداد حاصل عبارت را پیدا کنید.



۴- الگوی عددی زیر را ادامه بده.

۲ - ۴ - ۶ - ۸ - - - - -

۵- حاصل جمع ها و تفریق های زیر را به دست بیاورید.

$500 + 300 =$ $70 - 20 =$ $12 - 4 =$ $7 + 30 + 2 + 100 =$

۶- جاهای خالی را کامل کن.

..... دسته ده تایی به اضافه دسته ده تایی می شود ده تایی. یعنی $50 + 30 =$

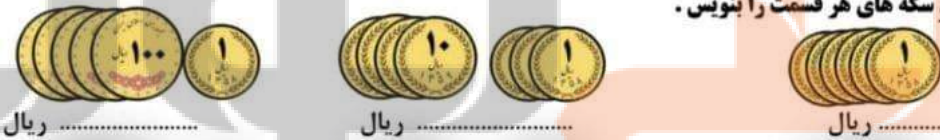
۷- نام این شکل ها را همراه با تعداد ضلع هایشان بنویس.



۸- برای هر شکل یک خط تقارن بکش.



۹- ارزش سکه های هر قسمت را بنویس.



۱۰- به سوالات زیر پاسخ بده.



ساعت چند است ؟

۳۰ دقیقه بعد از ساعت ۷:۰۰ چند است ؟

۲۰ دقیقه بعد از ساعت ۶:۱۵ چند است ؟


۱۱- ۴ دسته صد تایی ۳ دسته ده تایی و ۸ یکی می شود.

یکان | دهگان | صدگان

به عدد : به حروف :

۱۲- اندازه خط های زیر را با خط کش بگیریید و به صورت سانتی متر و میلی متر بنویسید.

اندازه ی خط سانتی متر و میلی متر است .



۱۳- برای شکل های زیر جملات را کامل کن.

..... از قسمت مساوی رنگ شده است. از قسمت مساوی رنگ شده است. از قسمت مساوی رنگ شده است

۱۴- جواب جمع و تفریق ها را به سه روش مختلف به دست آورید.

تقریبی	تکنیکی	فرایندی
.....
۸۷ → + ۴۳ → +	۷۳۴ -۲۱۶	۳۶۲ +۱۲۵
(با انتقال)	(از سمت صدگان)	

۱۵- با اعداد مناسب کامل کن .



..... دسته تایی می شود

۱۶- علامت < = > بگذارید



..... = ۴۰۰ - ۱۰۰ ۲۰۰ + ۲۰۰ =

۱۷- با میلی متر اندازه گیری کنید .



..... میلی متر

..... میلی متر

..... میلی متر

..... میلی متر

..... میلی متر

۱۸- تعداد گل های باغچه ی ماهان به صورت جدول زیر است، این اطلاعات را با نمودار ستونی نشان بده .

هر گل را با شکل رسم کنید



۳	محمدی
۵	یاس
۸	نرگس
۶	رز
۲	بنفشه

گل های شاداب من موفق باشید .

بازخورد معلم :


تلاشی در مسیر موفقیت



- دانلود گام به گام تمام دروس ✓
- دانلود آزمون های قلم چی و گاج + پاسخنامه ✓
- دانلود جزوه های آموزشی و شب امتحانی ✓
- دانلود نمونه سوالات امتحانی ✓
- مشاوره کنکور ✓
- فیلم های انگیزشی ✓

 www.ToranjBook.Net

 [ToranjBook_Net](https://t.me/ToranjBook_Net)

 [ToranjBook_Net](https://www.instagram.com/ToranjBook_Net)