


تلاشی در مسیر موفقیت



- دانلود گام به گام تمام دروس ✓
- دانلود آزمون های قلم چی و گاج + پاسخنامه ✓
- دانلود جزوه های آموزشی و شب امتحانی ✓
- دانلود نمونه سوالات امتحانی ✓
- مشاوره کنکور ✓
- فیلم های انگیزشی ✓

 [www.ToranjBook.Net](http://www.ToranjBook.Net)

 [ToranjBook\\_Net](https://www.toranjbook.net)

 [ToranjBook\\_Net](https://www.toranjbook.net)



بسم الله الرحمن الرحيم

ارزشیابی نوبت دوم دبستان پسرانه غیر دولتی امیدنو سال تحصیلی 1400-99

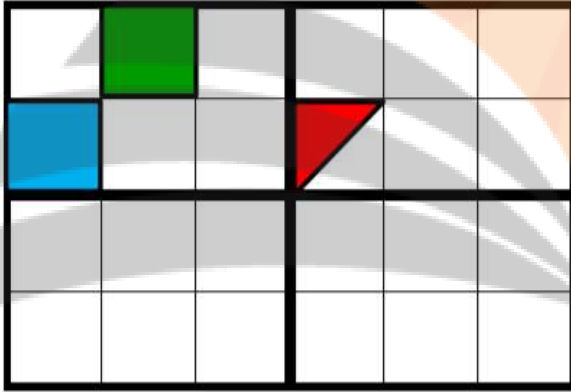
پایه: دوم

نام آموزگار: سرکار خانم عباسی

نام درس: .....

نام و نام خانوادگی دانش آموز: .....

۱. عزیزم، چند عدد دو رقمی می‌توانی بنویسی که رقم دهگان‌ش ۲ یا ۷ و رقم یکان‌ش ۵، ۹ یا ۳ باشد. به صورت منظم (نظام‌دار) بنویس. ....



۲. با توجه به خط تقارن، کامل کن.



۳. ساعت چه زمانی را نشان می‌دهد؟ یک ساعت و نیم بعد را نشان بده.



۴. یک ربع مانده به ۷ را روی ساعت نشان بده.



تلاشی در مسیر موفقیت

۵. با کارت رقم های ۵ و ۸ و ۳ اعداد سه رقمی بنویس و از بین عددهایی که نوشتی:

الف ( بزرگترین و کوچکترین عدد را با رقم و با حروف بنویس.

بزرگترین عدد: با رقم: ..... با حروف: .....

کوچکترین عدد: با رقم: ..... با حروف: .....

ب ( عددهایی را بنویس که رقم صدگانش کمتر از یکانش باشد ..... )

۶. سکه ها را بشمار.



۷. الگوهای عددی را کامل کن.

۴۵۳ - ۴۵۴ - ۴۵۷ - ..... - ..... - .....

۵۸۰ - ۵۸۵ - ۵۹۰ - ..... - ..... - .....

۸. جاهای خالی را کامل کن.

۵۳۶ میلی متر ..... سانتی متر و ..... میلی متر است. ۴ سانتی متر و ۲ میلی متر ..... میلی متر است.

۹. حاصل جمع و تفریق زیر را به روش فرایندی (گسترده نویسی) به دست آور.

$$\begin{array}{r} ۳۵۳ \\ +۵۲۴ \\ \hline \end{array}$$

$$\begin{array}{r} ۷۴۲ \\ -۲۱۶ \\ \hline \end{array}$$



تلاشی در مسیر موفقیت

۱۰. قد سمانه ۱۰۰ سانتی متر است. خواهرش ۳۰ سانتی متر از او کوتاه تر است. قد آن‌ها روی هم چند سانتی متر است؟

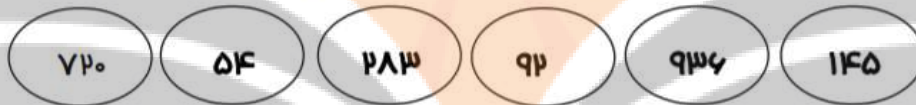
الف- قد خواهر سمانه چند سانتی متر است؟

ب- حالا قد آن‌ها روی هم را حساب کن.

۱۱. جواب جمع و تفریق‌های زیر را به صورت انتقالی (تکنیکی) به دست آور.

۴۹۸	۵۰۴	۶۳۴
<u>+۳۵۹</u>	<u>-۲۷۶</u>	<u>-۵۶۷</u>

۱۲. عددهای فرد را با رنگ سبز و عددهای زوج را با رنگ قرمز مشخص کن.



۱۳. در یک کیسه ۱۲ مهره به رنگ قرمز و ۹ مهره به رنگ آبی وجود دارد.

در این کیسه ..... مهره از ..... مهره، آبی است.

در این کیسه ..... مهره از ..... مهره، قرمز است.

- اگر بدون نگاه کردن به مهره‌ها یک مهره برداریم، شانس بیرون آمدن کدام رنگ بیشتر است؟ چرا؟

.....

نکته بزرگ  
تلاشی در مسیر موفقیت

۱۴. فرزند باهوشم، با توجه به شکل‌ها کامل کن.



..... دسته‌ی ..... تایی می‌شود ..... تا

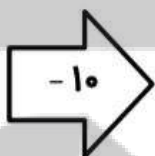
..... دسته‌ی ..... تایی می‌شود ..... تا

۱۵. فاطمه ۳۰ صفحه از کتاب ریاضی، ۵۵ صفحه از کتاب فارسی و ۴۰ صفحه از کتاب علوم را مطالعه کرده است. اگر هر ۱۰ صفحه را با یک  $\bigcirc$  نشان دهیم، نمودار تصویری میزان مطالعه فاطمه را رسم کنید.

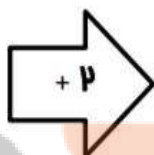


۱۶. جاهای خالی را کامل کن.

۳۴



۵



۱۹

موفق باشی عزیزم



تلاشی در مسیر موفقیت




تلاشی در مسیر موفقیت



- دانلود گام به گام تمام دروس ✓
- دانلود آزمون های قلم چی و گاج + پاسخنامه ✓
- دانلود جزوه های آموزشی و شب امتحانی ✓
- دانلود نمونه سوالات امتحانی ✓
- مشاوره کنکور ✓
- فیلم های انگیزشی ✓

 [www.ToranjBook.Net](http://www.ToranjBook.Net)

 [ToranjBook\\_Net](https://t.me/ToranjBook_Net)

 [ToranjBook\\_Net](https://www.instagram.com/ToranjBook_Net)