


تلاشی در مسیر موفقیت



- دانلود گام به گام تمام دروس ✓
- دانلود آزمون های قلم چی و گاج + پاسخنامه ✓
- دانلود جزوه های آموزشی و شب امتحانی ✓
- دانلود نمونه سوالات امتحانی ✓
- مشاوره کنکور ✓
- فیلم های انگیزشی ✓

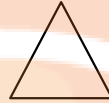
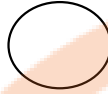

 www.ToranjBook.Net

 [ToranjBook_Net](https://t.me/ToranjBook_Net)

 [ToranjBook_Net](https://www.instagram.com/ToranjBook_Net)

دبستان آزاده

۱ نام هر شکل را بنویس



.....

.....

.....

.....

۲ با توجه به ساعت کامل کن



ساعت است . ساعت از گذشته است . کمی به ساعت مانده است.

۳ دسته ده تایی درست کن و در جای خالی عدد مناسب بنویس



با عدد.....



با حروف.....

یکی ده تایی



۴ جواب جمع ها را بنویس و دور علامت مناسب خط بکش

$$10 + 10 + 5 =$$

< = >

$$5 + 5 + 20 =$$

$$50 + 10 + 10 =$$

< = >

$$25 + 5 + 10 =$$

۵ مساله را حل کن

مریم ۲۰ شکلات خرید . ۹ تایی آن را به خواهرش و ۶ تایی آن را به برادرش داد . چند شکلات برای او باقی مانده است ؟ شکل بکشید

..... - =

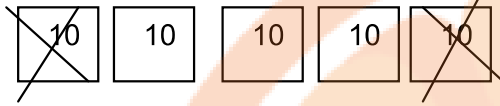
..... - =

ادامه بدهید

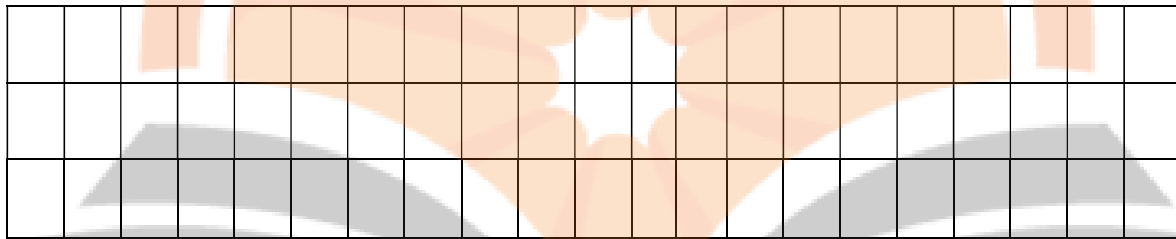
..... ۶ ۶ ۶ ۱۶ ، ۱۴ ، ۱۲

..... ۶ ۶ ۶ ۵۰ ، ۵۵ ، ۶۰

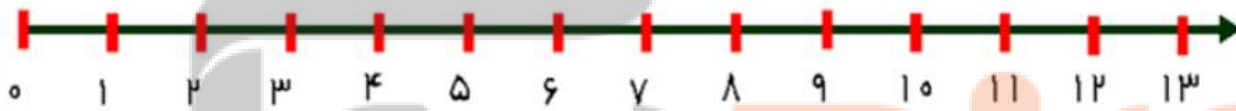
۷ برای شکل زیر تفریق بنویس



۸ یک الگوی سه تایی بکش



۹ ۶ دانش آموز در حیاط مدرسه بازی می کردند . ۶ تایی دیگر هم آمدند . حالا چند دانش آموز بازی می کنند ؟ با کمک محور



۱۰ در جای خالی عدد مناسب بنویس

۱۰ بسته ی ده تایی می شود یک دسته ی تایی

۵۰ می شود بسته ده تایی

۲ بسته ده تایی و ۹ یکی می شود.....

۴۵ می شود ده تایی و یکی

تلاشی در مسیر موفقیت



- دانلود گام به گام تمام دروس ✓
- دانلود آزمون های قلم چی و گاج + پاسخنامه ✓
- دانلود جزوه های آموزشی و شب امتحانی ✓
- دانلود نمونه سوالات امتحانی ✓
- مشاوره کنکور ✓
- فیلم های انگیزشی ✓

 www.ToranjBook.Net

 [ToranjBook_Net](https://t.me/ToranjBook_Net)

 [ToranjBook_Net](https://www.instagram.com/ToranjBook_Net)