


تلاشی در مسیر موفقیت



- دانلود گام به گام تمام دروس ✓
- دانلود آزمون های قلم چی و گاج + پاسخنامه ✓
- دانلود جزوه های آموزشی و شب امتحانی ✓
- دانلود نمونه سوالات امتحانی ✓
- مشاوره کنکور ✓
- فیلم های انگیزشی ✓

 www.ToranjBook.Net

 [ToranjBook_Net](https://t.me/ToranjBook_Net)

 [ToranjBook_Net](https://www.instagram.com/ToranjBook_Net)

به نام خداوند بخشنده ی مهربان

آزمون مدادکاغذی ریاضی 25 تم

تاریخ: / /

زمان: 45 دقیقه

وزارت آموزش و پرورش

نام و نام خانوادگی:

1 پسر جمع کن و علامت مناسب بگذار.

..... + =

..... + =

2 دسته ی ده تایی درست کن. عدد آن را در جدول و جای خالی بنویس.

یکی ده تایی

3 گلم حاصل را بنویس.

$10 + 10 + 10 - 5 + 5 = \dots\dots\dots$

$5 + 10 + 5 + 5 = \dots\dots\dots$

4 در جای خالی عدد مناسب بنویس.

ساعت از گذشته است.



کمی به ساعت مانده است.

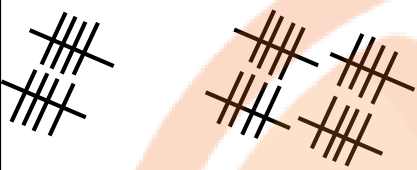





5 12 ردک در آب بودند. 8 تا از آن ها از آب بیرون رفتند. چند اردک در آب مانده است؟




6 جا های خالی را به طور مناسب پر کن.

50		45	
	هفتاد و شش		نود و نه

7 در جاهای خالی عدد مناسب بنویس.

<p>5 - 10 - 15 - - - 10 - 20 - 30 - - -</p>																												
	<p>8 نام هر شکل را بنویس .</p>																											
<p>.....</p>  <p>کفش از جوراب است . جوراب از کفش است .</p>	<p>9 گلم از کلمه های سبک تر و سنگین تر استفاده کن.</p>																											
	<p>10 گلم از 90 تا 100 بنویس.</p>																											
<p>..... + =</p> <p>..... - =</p>	<p>11 در گلدان 7 گل میخک و 9 گل رز است. 10 شاخه از آن ها پژمرده شدند. چند گل شاداب باقی مانده است؟</p>																											
<p>جدول راهنمای توصیف عملکرد:</p>																												
<table border="1"> <thead> <tr> <th>تسلط خیلی کم</th> </tr> </thead> <tbody> <tr><td> </td></tr> <tr><td> </td></tr> <tr><td> </td></tr> <tr><td> </td></tr> <tr><td> </td></tr> </tbody> </table>	تسلط خیلی کم						<table border="1"> <thead> <tr> <th>تسلط کم</th> </tr> </thead> <tbody> <tr><td> </td></tr> <tr><td> </td></tr> <tr><td> </td></tr> <tr><td> </td></tr> <tr><td> </td></tr> </tbody> </table>	تسلط کم						<table border="1"> <thead> <tr> <th>تسلط متوسط</th> </tr> </thead> <tbody> <tr><td> </td></tr> <tr><td> </td></tr> <tr><td> </td></tr> <tr><td> </td></tr> <tr><td> </td></tr> </tbody> </table>	تسلط متوسط						<table border="1"> <thead> <tr> <th>تسلط کامل</th> </tr> </thead> <tbody> <tr><td> </td></tr> <tr><td> </td></tr> <tr><td> </td></tr> <tr><td> </td></tr> <tr><td> </td></tr> </tbody> </table>	تسلط کامل						<p>جمع و تفریق را به درستی انجام می دهد. مفهوم یکی ده تایی را درک کرده است. ساعت را به درستی می خواند. اعداد را هم به حروف و هم به عدد می نویسد. مسئله ها را به درستی حل می کند</p>
تسلط خیلی کم																												
تسلط کم																												
تسلط متوسط																												
تسلط کامل																												
<p>احساس دانش آموز :</p>																												
																												
<p>باز خورد توصیفی:</p>																												

وزارت آموزش و پرورش نام و نام خانوادگی:		به نام خداوند بخشنده ی مهربان آزمون مدادکاغذی ریاضی تم 25 زمان: 45 دقیقه / / تاریخ:					
1	پسرم جمع کن و علامت مناسب بگذار.	 $10 + 10 = 20$	 $20 + 10 = 30$				
2	دسته ی ده تایی درست کن. عدد آن را در جدول و جای خالی بنویس.		<p>یکی ده تایی</p> <table border="1" style="margin-left: auto; margin-right: auto;"> <tr> <td style="width: 20px; height: 20px;"></td> <td style="width: 20px; height: 20px;"></td> </tr> <tr> <td style="text-align: center;">2</td> <td style="text-align: center;">8</td> </tr> </table> <div style="text-align: center; margin-top: 10px;">  </div>			2	8
2	8						
3	گلم حاصل را بنویس.	$10 + 10 + 10 - 5 + 5 = 30$	$5 + 10 + 5 + 5 = 25$				
4	در جای خالی عدد مناسب بنویس.		ساعت از 10 گذشته است.				
			کمی به ساعت 11 مانده است.				
5	12 ردک در آب بودند. 8 تا از آن ها از آب بیرون رفتند. چند اردک در آب مانده است؟	$12 - 8 = 4$					
6	جا های خالی را به طور مناسب پر کن.						

50	76	45	99
پنجاه	هفتاد و شش	چهل و پنج	نود و نه
7 در جاهای خالی عدد مناسب بنویس.			
5 - 10- 15-20..... -25..... -30..... 10 - 20 - 30 -40..... -50..... -60.....			
8 نام هر شکل را بنویس .			
			
..... ...دایره... ...مستطیل... ...مثلث... ...مربع...			
9 گلم از کلمه های سبک تر و سنگین تر استفاده کن.			
			
کفش از جوراب ...سنگین تر... است. جوراب از کفش ..سبک تر... است.			
10 گلم از 90 تا 100 بنویس. 90-91-92-93-94-95-96-97-98-99-100			
11 در گلدان 7 گل میخک و 9 گل رز است. 10 شاخه از آن ها پژمرده شدند. چند گل شاداب باقی مانده است؟			
.....7..... +9..... =16.....16..... -10..... = ...6.....			
جدول راهنمای توصیف عملکرد:			
تسلط خیلی کم	تسلط کم	تسلط متوسط	تسلط کامل
			جمع و تفریق را به درستی انجام می دهد.
			مفهوم یکی ده تایی را درک کرده است.
			ساعت را به درستی می خواند.
			اعداد را هم به حروف و هم به عدد می نویسد.
			مساله ها را به درستی حل می کند
احساس دانش آموز :			
			

باز خورد توصیفی:



نشر نیجه بوک

تلاشی در مسیر موفقیت


تلاشی در مسیر موفقیت



- دانلود گام به گام تمام دروس ✓
- دانلود آزمون های قلم چی و گاج + پاسخنامه ✓
- دانلود جزوه های آموزشی و شب امتحانی ✓
- دانلود نمونه سوالات امتحانی ✓
- مشاوره کنکور ✓
- فیلم های انگیزشی ✓

 www.ToranjBook.Net

 [ToranjBook_Net](https://t.me/ToranjBook_Net)

 [ToranjBook_Net](https://www.instagram.com/ToranjBook_Net)