


تلاشی در مسیر موفقیت






- دانلود گام به گام تمام دروس ✓
- دانلود آزمون های قلم چی و گاج + پاسخنامه ✓
- دانلود جزوه های آموزشی و شب امتحانی ✓
- دانلود نمونه سوالات امتحانی ✓
- مشاوره کنکور ✓
- فیلم های انگیزشی ✓

 www.ToranjBook.Net

 [ToranjBook_Net](https://t.me/ToranjBook_Net)

 [ToranjBook_Net](https://www.instagram.com/ToranjBook_Net)

همکار محترم شما می توانید برای نوبت دوم گلچینی از این سوالات را برداشت کنید و از دانش آموزان خود آزمون بگیرید

<p>۱- عدد مربوط به هر دسته کدام است دور آن خط بکشید .</p>  <p>۱۳ - ۱۲ - ۱۴</p>	<p>۸ - ۱۰ - ۱۵</p> 
<p>۲- ابتدا دسته ی ده تایی درست کنید سپس جای خالی را پر کنید .</p>  <p>یکی ده تایی</p>	<p>به حروف به عدد</p>
<p>۳- عدد ۷۵ چند رقم دارد ؟ با رقم هایش عدد دیگری بنویسید</p>	
<p>۴- کدام یک از اعداد دو رقمی زیر یکی آن ۲ تا بیشتر از ده تایی آن است دورش خط بکش و آن را با حروف بنویس با حروف ۴۷ - ۵۷ - ۳۶ - ۲۹</p>	
<p>۵- چهار عدد دو رقمی بنویسید که ده تایی آن ۵ باشد</p>	
<p>۶- با رقم های ۲ و ۳ تا می توانی اعداد دو رقمی بسازید</p>	
<p>۷- دو عدد دو رقمی بنویسید که رقم هایش مثل هم باشد</p>	
<p>۸- با رقم ۱ و ۹ بزرگ ترین و کوچک ترین عدد دو رقمی را بنویسید و سپس با حروف بنویسید . بزرگ ترین کوچک ترین با حروف با حروف</p>	
<p>۹- ادامه اعداد را بنویسید نود و یک - - نود و سه - - ۷۹ - - ۸۱ - ۸۲ - - -</p>	

۱۱- دور اعداد بیشتر از ۲۵ خط بکشید . ۲۹ - ۳۷ - ۲۰ - ۲۴ - ۸۵ - ۹۳

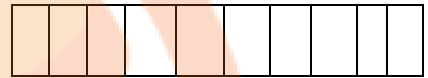
۱۲- حاصل جمع اعداد را با رسم چوب خط انجام دهید .

$$7 + 6 =$$

$$9 + 8 =$$

$$4 + 2 + 5 + 3 =$$

۱۳- حاصل جمع زیر را با رنگ کردن مربع ها انجام دهید .



۱۴- در جای خالی عدد مناسب قرار دهید .

$$\dots + \dots = 9$$

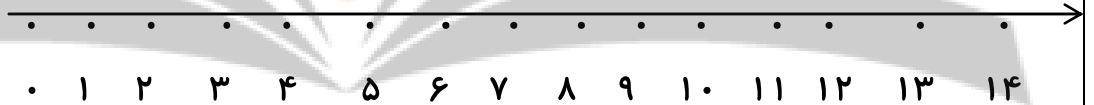
$$\dots + \dots = 8$$

$$\dots + \dots = 7$$

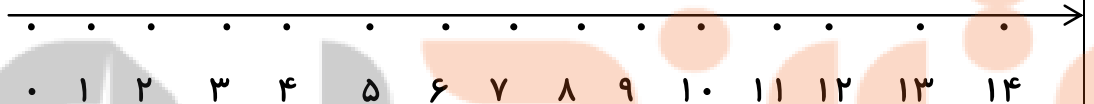
$$\dots + \dots = 6$$

۱۵- حاصل عبارت را روی محور نشان دهید .

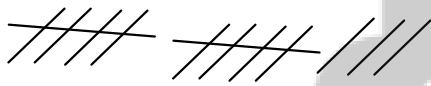
$$13 - 6 + 4 =$$



$$7 + 5 - 3 =$$



۱۶- برای شکل زیر جمع بنویسید .



$$\dots + \dots + \dots = \dots$$

$$\dots + \dots + \dots = \dots$$

۱۷- مریم ۹ گل سرخ زهرا ۷ گل میخک داشتند هر یک ۲ گل به خانم معلم هدیه دادند حالا روی هم چند گل دارند ؟

۱۸- احمد ۸ کتاب قصه داشت و پدرش برای روز تولدش ۹ کتاب دیگر برایش خرید حالا او چند کتاب دارد ؟

اگر ۶ کتاب را به مدرسه هدیه بدهد چند کتاب برایش می ماند ؟

۱۹- نرگس ۱۵ شمع قرمز و آبی برای مادرش خرید اگر ۸ شمع او قرمز باشد چند شمع او آبی است؟

۲۰- الگوی عددی را با رنگی کردن مربع ها با چند مداد رنگی مختلف ادامه دهید.

--	--	--	--	--	--	--	--	--	--

--	--	--	--	--	--	--	--	--	--

..... - - - - ۸ - ۴

۲۱- خانه ها را ۵ تا ۵ تا رنگ کنید و الگوی مناسب را بنویسید.

..... - - - - ۱۰ - ۵

۱	۲	۳	۴	۵	۶	۷	۸	۹	۱۰
۱۱	۱۲	۱۳	۱۴	۱۵	۱۶	۱۷	۱۸	۱۹	۲۰
۲۱	۲۲	۲۳	۲۴	۲۵	۲۶	۲۷	۲۸	۲۹	۳۰

۲۲- دو عدد شصت و ده را با هم جمع کنید.

۲۳- جای خالی را پر کنید.

۶- ۱۲- - ۲۴-

۱۸- ۲۸- - ۴۸

۱۰- - ۳۰- ۴۰-

..... - ۱۲- ۱۵- - ۲۱

۲۴- علی ۷ بسته ده تایی مداد خرید و در پایان سال ۳ بسته ده تایی آن تمام شد حالا او چند مداد دارد؟

۲۵- جدول را کامل کنید.

۸۰
۳۰
۷۰

- ۱۰

۲۶- حاصل کدام عبارت با عدد نوشته شده یکی است دور آن خط بکشید.

۷+۹

۹+۵

۱۰+۶

۱۷-۸

۱۶-۱۰

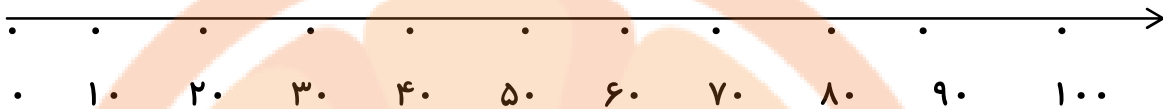
۱۸-۸



۲۷- حاصل عبارت های زیر را به دست آورید .

$$۱۳ - ۶ = \quad ۱۸ - ۹ = \quad ۱۴ - ۸ = \quad ۹ + ۶ = \quad ۷ + ۷ = \quad ۵ + ۸ =$$

۲۸- به صورت تقریبی اعداد (۱۷ - ۲۹ - ۸۷ - ۹۴) را پیدا کنید و علامت بزنید .



۲۹- جمع و تفریق از راه طولانی یا فرآیندی حل کنید .

$$\begin{array}{r} ۲۸ \\ + ۳۹ \\ \hline \end{array}$$

$$۳۰ + ۹$$

$$\begin{array}{r} ۸۵ \\ - ۲۶ \\ \hline \end{array}$$

$$۲۰ + ۶$$

+

.....

+

.....

-

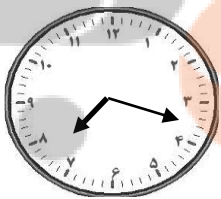
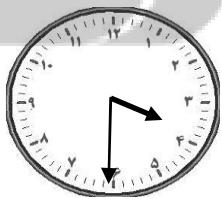
.....

-


.....

۳۰- علی ۷۵ ستاره کاغذی داشت او ۲۵ ستاره را به خواهرش و ۱۷ ستاره را به برادرش داد حالا چند ستاره دارد ؟

۳۱- ساعت چند است ؟




۳۲- خط های زیر را به شکل های هندسی تبدیل کنید و نام آن ها را نیز بنویسید .

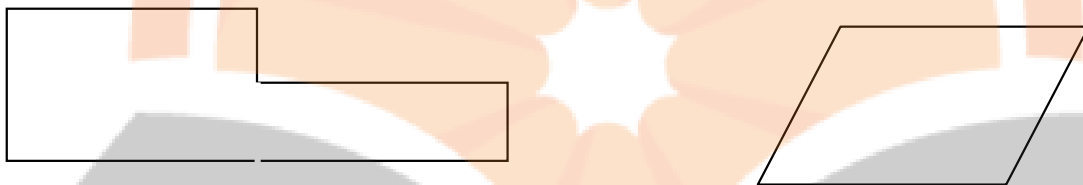


۳۳- ۴ ضلع و ۴ گوشه دارم و ضلع هایم با هم برابر است اگر گفتم من چه شکلی هستم ؟ شکل مرا بکش .

۳۴- هر شکل را به نامش وصل کنید .



۳۵- گوشه های شکل را رنگ کنید و بنویسید هر شکل چند گوشه دارد ؟



۳۶- چهار چیز بنویس که شبیه دایره باشد .

۳۷- کدام شکل شبیه مثلث است دورش خط بکشید .

کوه - کتاب - النگو - کلاه تولد

۳۸- حاصل عبارت های زیر را از راه تقریب به دست آورید .

$$\begin{array}{r} 68 \\ + 23 \\ \hline \end{array} \quad \begin{array}{r} \dots\dots\dots \\ + \dots\dots\dots \\ \hline \end{array} \quad \begin{array}{r} 89 \\ - 34 \\ \hline \end{array} \quad \begin{array}{r} \dots\dots\dots \\ - \dots\dots\dots \\ \hline \end{array}$$

۳۹- شکل های زیر چه شباهت و چه تفاوتی با هم دارند ؟



شباهت
تفاوت

۴۰- برای هر نام شکل ، شکل بکشید .

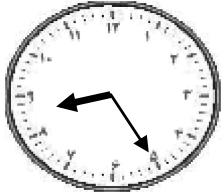
شش ضلعی مثلث مربع پنج ضلعی دایره

۴۱- الگوی عددی را ادامه دهید .

..... - - - ۹ - ۶ - ۴ - ۳

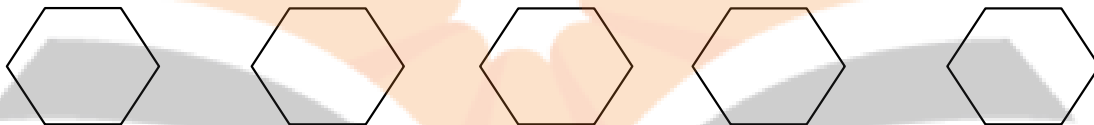
..... - - - ۱۴ - ۱۰ - ۶ - ۲

۴۲- ساعت چند است با رنگ کردن عدد ها نشان دهید .

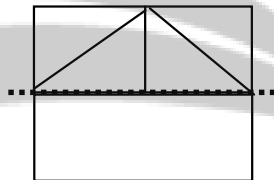


۱۰:۱۰

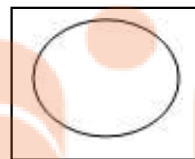

۴۳- شش ضلعی های زیر را به چند صورت به نیمه های مثل هم تقسیم کنید و خط تقارن بکشید .



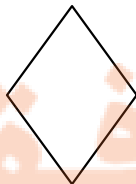
۴۴- نیمه ی دیگر شکل را کامل کنید .



۴۵- کدام شکل خط تقارن ندارد آن را رنگ کنید .



۴۶- با خط تقارن شکل ها را به چهار قسمت مساوی تقسیم کنید .



۴۷- رضا ساعت ۴ به ورزشگاه رفت و ۳ ساعت و نیم بعد به آن جا رسید . او چه ساعتی به ورزشگاه رسیده است ؟

۴۸- ساعت ۵ و ربع بود و مریم یک ساعت قبل به خانه رسیده بود. او چه ساعتی به خانه آمده بود؟ قرار بود ۲ ساعت ونیم دیگر به خانه ی مادر بزرگش برود او چه ساعتی به خانه مادر بزرگش می رود؟

۴۹- یک ساعت چند دقیقه است؟
 یک ساعت چند تا نیم ساعت است؟
 یک ساعت چند تا یک ربع است؟
 یک ساعت چند تا ده دقیقه است؟

۵۰- علامت >=< قرار دهید.
 ده دقیقه بیست دقیقه نیم ساعت یک ربع چهار تا یک ربع یک ساعت

۵۱- یک سکه ی ۱۰۰ ریالی از سکه ی ۱۰ ریالی درست شده است.

۵۲- به اندازه ۱۰۰ ریال دو سکه بکشید.

۵۳- برای عدد زیر شکل و سکه بکشید و آن ها را در جدول قرار دهید.

یکی	ده تایی	صد تایی	شکل	سکه
۳۸۵				

۵۴- به اندازه ی عدد داده شده شکل ها را رنگ کنید و در جدول قرار دهید.

یکی	ده تایی	صد تایی	شکل	سکه
۴۵۳				

۵۵- دور عدد درست خط بکشید.

۳ صدتایی و ۷ ده تایی و ۹ یکی می شود = ۹۷۳ - ۷۹۳ - ۳۹۷ - ۳۷۹

۶ صدتایی و ۷ یکی و ۵ ده تایی می شود = ۶۵۷ - ۶۷۵ - ۵۷۶

۵۶- اعداد را با حروف و رقم بنویسید.

۹۰۱ =

پانصد و شصت و سه =

۵۷- چهار عدد سه رقمی بنویسید که مجموع رقم هایش ۸ باشد .

۵۸- بزرگ ترین عدد سه رقمی را بنویسید .

۵۹- قبل و بعد اعداد را بنویسید .
..... - ۳۰۰ -
..... - ۸۳۰ -

۶۰- عددی سه رقمی بنویسید که یکان آن ۶ و صدگانش سه تا بیشتر از یکانش باشد .

۶۱- عددی سه رقمی بنویسید که صدگانش ۸ دهگانش دو تا کم تر و یکانش چهار تا کم تر از صدگان باشد .

.....

۶۲- از سکه داده شده به اندازه ی ۷۰ ریال جدا کن و رنگ بزن .



۶۳- از عدد ۳۴۰ تا ۴۴۰ را ۵ تا ۵ بنویسید .

.....

۶۴- اعداد را با حذف رقم یکان و دهگان به صورت تقریب بنویسید .

۲۸۵
۱۲۴

۶۵- علی ۲۳۷ ریال و حسین ۴۸۵ ریال پول دارند آن ها روی هم تقریباً "چند ریال دارند به صورت تقریبی حل کنید

۶۶- شیرین ۴۸۰ ریال پول داشت از برادرش دو سکه ۱۰ ریالی و از مادرش سه سکه ۵۰ ریالی گرفت حالا چند ریال دارد .

۶۷- جمع و تفریق ها را از هر راهی که می توانی حل کنید . (جدول - محور)

۱۰۸	۹۸	۱۰۳	۸۵
+	-	-	+
۲	۵	۶	۷

۶۸- جای خالی را پر کنید .

$$۷ - ۳ =$$

$$۵ + ۲ =$$

$$۷۰ - ۳۰ =$$

$$۵۰ + ۲۰ =$$

$$۷۰۰ - ۳۰۰ =$$

$$۵۰۰ + ۲۰۰ =$$

۶۹- عدد وسطی به کدام عدد نزدیک تر است آن را رنگ بزنید .

۳۶۰ - ۳۵۲ - ۴۹۰ - ۴۸۵ - ۴۸۰

۷۰- جای خالی را کامل کنید .

$$۹۳ - = ۶۱ \quad + ۲۷ = ۴۷$$

۷۱- با کمک خط کش یک خط ۳ سانتی متری و یک خط ۴ سانتی متری بکشید .

۷۲- مربعی بکشید که هر ضلعش ۴ سانتی متر باشد .

۷۳- اگر مثلثی که همه ی ضلع هایش با هم برابر باشد داشته باشیم و اندازه ی همه ی ضلع هایش ۱۲ سانتی متر باشد هر ضلعش چند سانتی متر بوده است ؟

۷۴- علامت $>= <$ قرار دهید .

۲ سانتی متر و ۷ میلی متر ۲۷ میلی متر ۳ سانتی متر ۳۸ میلی متر

۷۵- ۴۰ میلی متر سانتی متر .

۲ سانتی متر و ۵ میلی متر یعنی میلی متر

۷ سانتی متر میلی متر

۶۴ میلی متر سانتی متر و میلی متر

۷۶- مداد زهرا ۶ سانتی متر بود ولی از وسط شکست اگر گفتی هر تکه آن چند سانتی متر است ؟

۷۷- دو تا ۷ میلی متر چه قدر می شود ؟ ۱۴ میلی متر ۲ سانتی متر و ۴ میلی متر ۱۴ سانتی متر

۷۸- علامت مناسب $>= <$ در جای خالی قرار دهید .

۷۰۰-۲۰۰ \bigcirc ۷۰۰-۳۰۰ ۲۰۰+۲۰۰ \bigcirc ۱۰۰+۳۰۰ ۲۸۵ \bigcirc ۲۵۸ ۵۰۶ \bigcirc ۵۶۰

۷۹- جای خالی را با عدد مناسب پر کنید .

۲۸۰ <

> ۳۸۸

۸۰- دور اعداد کم تر از ۴۰۰ خط بکشید .

۱۹۱ - ۲۸۵ - ۳۴۹ - ۵۲۸ - ۴۰۳ - ۷۰۰

۸۱- جمع و تفریق کنید از راه فرآیندی .

$$\begin{array}{r} 548 \\ + 179 \end{array} \rightarrow 100 + 70 + 9$$

$$\begin{array}{r} \underline{\quad\quad\quad} \\ 648 \\ + 70 \\ \underline{\quad\quad\quad} \\ \dots\dots\dots \\ + \dots\dots\dots \\ \underline{\quad\quad\quad} \\ \dots\dots\dots \end{array}$$

$$\begin{array}{r} 896 \\ - 459 \end{array} \rightarrow 400 + 50 + 9$$

$$\begin{array}{r} \underline{\quad\quad\quad} \\ 496 \\ - 50 \\ \underline{\quad\quad\quad} \\ \dots\dots\dots \\ - \dots\dots\dots \\ \underline{\quad\quad\quad} \\ \dots\dots\dots \end{array}$$

۸۲- هر دو عدد را با استفاده از علامت $>= <$ با هم مقایسه کنید .

۱۸۵ و ۳۹۱

۴۰۸ و ۷۰۶

۸۳- عدد صد و هفتاد و نه و ششصد و هفده را یک بار با هم جمع و یک بار از هم تفریق کنید از راه طولانی یا فرآیندی .

۸۴- در مدرسه شهید مطهری ۲۸۶ نفر کلاس اول و ۳۰۵ نفر کلاس دوم هستند در این مدرسه چند نفر کلاس اول و دوم هستند؟ برای مسابقات ورزشی ۱۱۰ نفر را انتخاب کردند و به مسابقه بردند حالا چند نفر در مدرسه باقی ماندند؟

۸۵- جمع زیر را با کمک شکل انجام دهید و دسته ده تایی درست کنید .

۱۰۰	۱۰۰	۱۰۰	۱۰	۱۰	۱۰	۱۰
-----	-----	-----	----	----	----	----

۱۰۰	۱۰۰
-----	-----



یک	ده تایی	صد تایی
۷	۴	۳
۵	۰	۲
		+

۸۶- تفریق زیر را با رسم شکل انجام دهید .

$$\begin{array}{r} 725 \\ - 239 \\ \hline \end{array}$$

۸۷- جمع و تفریق را انجام دهید از راه دسته بندی ده تایی یا با انتقال .

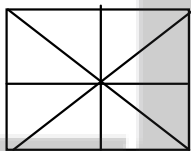
$$\begin{array}{r} 500 \\ - 281 \\ \hline \end{array} \qquad \begin{array}{r} 391 \\ + 285 \\ \hline \end{array}$$

۸۸- زهرا ۳۵۰ ریال پول داشت و ۴۰۰ ریال هم از مادرش گرفت و با ۵۱۰ ریال آن یک کتاب خرید چند ریال پول برایش مانده است؟

۸۹- چند تا از قسمت های شکل رنگ شده است جمله ها را کامل کنید .

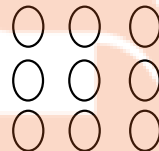


..... قسمت از قسمت



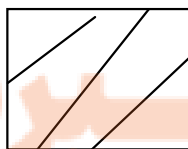

۴ قسمت از ۸ قسمت مساوی

۹۰- با توجه به عبارت نوشته شده از هر شکل رنگ بزن .



۲ قسمت از ۹ قسمت مساوی

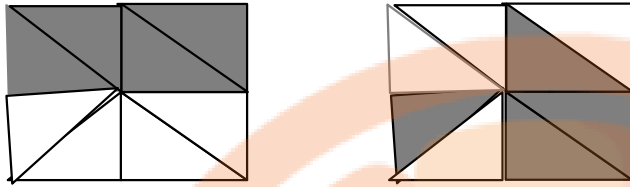
۹۱- در کدام شکل ۲ قسمت از ۴ قسمت مساوی را می توان رنگ زد آن را رنگ کنید .



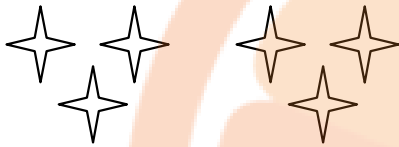
۹۲- ۹ قسمت از ۱۵ قسمت را رنگ کنید .




۹۳- در کدام شکل احتمال برخورد نشانه به قسمت رنگی بیشتر است .



۹۴- کامل کنید .



..... دسته ی تایی



..... دسته ی تایی

۹۵- برای عبارت ها شکل بکشید .

۴ دسته ی ۲ تایی

۲ دسته ی پنج تایی

۹۶- در یک بسته ۹ دایره - ۳ مربع - ۲ مستطیل است .

احتمال برداشتن شکل از همه شکل ها بیش تر است .

احتمال برداشتن شکل از همه کم تر است .

۹۷- اعداد زوج و فرد را طبقه بندی کنید .

۲۰ - ۹۸ - ۷۵ - ۱۷ - ۴۳

زوج	فرد
-----	-----

۹۸- الگوی عددی را ادامه دهید .

..... - - - ۴۸۵ - ۴۸۰ - ۴۷۵

..... - - ۳۶۰ - ۳۵۰ - ۳۴۰

۹۹- کامل کنید .



..... تا تا می شود =

..... تا تا می شود =

۱۰۰- برای تعداد دانش آموزان غایب نمودار بکشید .

تعداد	چوب خط	روزهای هفته

شنبه □ □

یکشنبه

دوشنبه □ □ □ □

سه شنبه □ □ □

چهارشنبه □ □ □ □

امیدوارم این نمونه سوالات کمکی برای شما همکار محترم باشد

به امید موفقیت روز افزون برای شما

نشانچه بوک
تلاشی در مسیر موفقیت


تلاشی در مسیر موفقیت



- دانلود گام به گام تمام دروس ✓
- دانلود آزمون های قلم چی و گاج + پاسخنامه ✓
- دانلود جزوه های آموزشی و شب امتحانی ✓
- دانلود نمونه سوالات امتحانی ✓
- مشاوره کنکور ✓
- فیلم های انگیزشی ✓

 www.ToranjBook.Net

 [ToranjBook_Net](https://t.me/ToranjBook_Net)

 [ToranjBook_Net](https://www.instagram.com/ToranjBook_Net)