

تلاشی در مسیر موفقیت



دانلود گام به گام تمام دروس ✓

دانلود آزمون های قلم چی و گاج + پاسخنامه ✓

دانلود جزوه های آموزشی و شب امتحانی ✓


دانلود نمونه سوالات امتحانی ✓

مشاوره کنکور ✓

فیلم های انگیزشی ✓

 [www.ToranjBook.Net](http://www.ToranjBook.Net)

 [ToranjBook\\_Net](https://t.me/ToranjBook_Net)

 [ToranjBook\\_Net](https://www.instagram.com/ToranjBook_Net)

۱ صحیح و غلط بودن هریک از موارد زیر را مشخص کنید.

ص  غ

\* امکانات خصوصی برای استفاده ی همه ی مردم است.

ص  غ

\* اداره ی روستا برعهده ی شورای اسلامی روستا ودهیار است.

۲ موارد نوشته شده در ستون وسط را با دو طرف آن جور کنید.

کورش \*

حکومت مادها \*

جنگ با سلوکیان \*

انوشیروان \*

حکومت ساسانیان \*

تخت جمشید \*

مهرداد \*

حکومت اشکانیان \*

جنگ با آشوریان \*

دیا اکو \*

حکومت هخامنشیان \*

جنگ با مسلمانان \*

۳ کدام موجودغذای دیگری هست ؟ از شروع زنجیره غذایی به ترتیب



شماره گذاری کنید و با فلش به طور مناسب به هم وصل کنید.

۴ کدام یک از موارد زیر تعطیل ملی است؟

الف : عید فطر

ب : عید مبعث

ج : عید نوروز

د : عید قربان

۵ مهم ترین وسیله دریادگیری جغرافیاچه نام دارد؟

الف : رایانه


ب : کره ی جغرافیایی

ج : عکس

د : نقشه

۶ دو عامل را نام ببرید که در تعیین اب و هوای یک منطقه تاثیر دارند؟

۷ نام قسمت های خواسته شده را بنویسید.



	<p>روز جمعه مخصوص چه کاری است؟ (چهارمورد) .....</p>	۱۸
	<p>ترتیب پیدایش حکومت ها بعد از ورود آریایی ها تا ورود اسلام به ایران را بنویسید.</p> <div style="border: 1px solid black; padding: 5px; display: flex; align-items: center;"> <div style="border-right: 1px solid black; width: 15%; height: 20px; margin-right: 5px;"></div> <div style="border-right: 1px solid black; width: 15%; height: 20px; margin-right: 5px;"></div> <div style="border-right: 1px solid black; width: 15%; height: 20px; margin-right: 5px;"></div> <div style="border-right: 1px solid black; width: 15%; height: 20px; margin-right: 5px;"></div> <div style="border-right: 1px solid black; width: 15%; height: 20px; margin-right: 5px;"></div> <div style="border-right: 1px solid black; width: 15%; height: 20px;"></div> </div> <p style="text-align: center; margin-top: 5px;">← ورود اسلام به ایران</p>	۱۹
	<p>سلوکیان بعد از حاکم شدن بر ایران چه کردند؟ .....</p>	۲۰
	<p>دومورد از تغییرات محله ها را بنویسید. ....</p>	۲۱
	<p>مفاهیم زیر را تعریف کنید.</p> <p>دما : .....</p> <p>جدول بودجه : .....</p> <p>زیستگاه : .....</p> <p>جلگه : .....</p> <p>استان : .....</p>	۲۲
	<p>ناحیه آب و هوایی معتدل و نیمه خشک کوهستانی را قهوه ای رنگ کرده و ویژگی های آب و هوایی و پوشش گیاهی این ناحیه را بنویسید.</p> <p>(آب و هوا) : .....</p> <p>(پوشش گیاهی) : .....</p>	۲۳

جاهای خالی را با کلمات مناسب پر کنید.

❖ کتاب دینی زرتشتیان ..... نام دارد.

❖ مهم ترین پرستشگاه در زمان ایلامی ها ..... نام داشت.

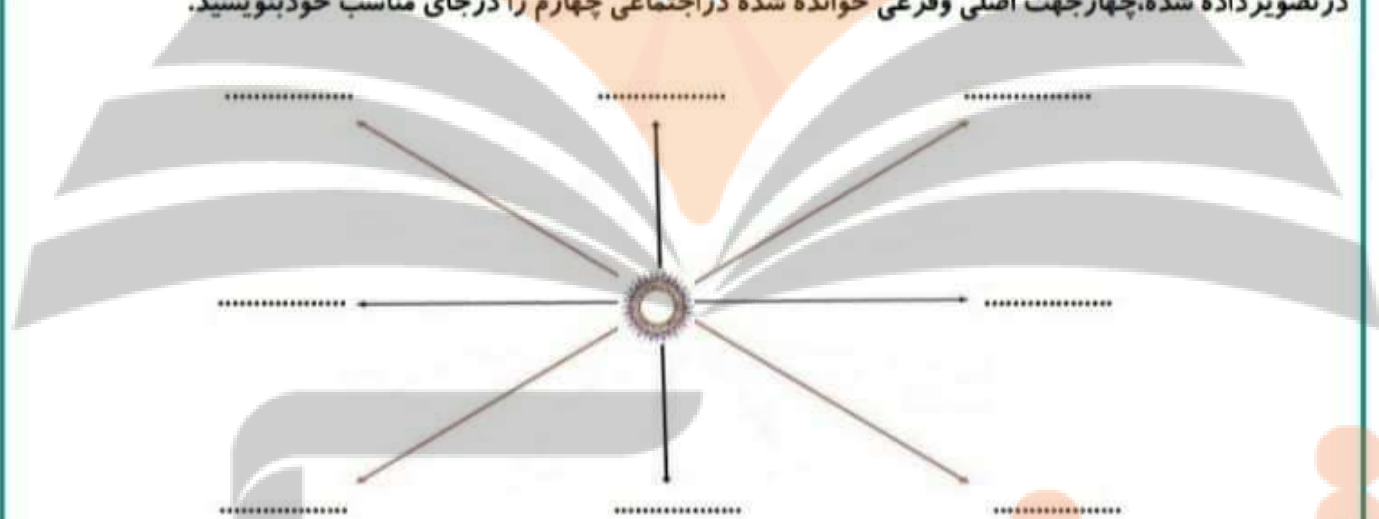
❖ اولین روستاها در کنار ..... و ..... به وجود آمدند.

❖ قبل از پیدایش پول داد و ستد به صورت مبادله ی ..... انجام می شد.

❖ سه پایه ی اصلی دین زرتشت ..... و ..... و ..... بودند.

۸

در تصویر داده شده، چهار جهت اصلی و فرعی خوانده شده در اجتماعی چهارم را در جای مناسب خود بنویسید.



۹

۱۰. علل ضعف مادیها چه بود؟ .....

۱۱. چرا آثار تاریخی با ارزش هستند؟ .....

۱۲. راهنمای نقشه چه کمکی به ما می کند؟ .....

۱۳. چهارمورد از ویژگی تمدن ها را بنویسید. ....

۱۴. مردم ایران در چه چیزهایی مشترک هستند؟ .....

۱۵. چهارمورد از کارهای مهم داریوش را بنویسید. ....

۱۶. مهم ترین مشکلات انسان های نخستین چه بود؟ .....

۱۷. کشاورزی چه اهمیتی در زندگی انسان های گذشته داشت؟ .....

۱۰

۱۱

۱۲

۱۳

۱۴

۱۵

۱۶

۱۷


تلاشی در مسیر موفقیت



- دانلود گام به گام تمام دروس ✓
- دانلود آزمون های قلم چی و گاج + پاسخنامه ✓
- دانلود جزوه های آموزشی و شب امتحانی ✓
- دانلود نمونه سوالات امتحانی ✓
- مشاوره کنکور ✓
- فیلم های انگیزشی ✓

 [www.ToranjBook.Net](http://www.ToranjBook.Net)

 [ToranjBook\\_Net](https://t.me/ToranjBook_Net)

 [ToranjBook\\_Net](https://www.instagram.com/ToranjBook_Net)