

تلاشی در مسیر موفقیت



- دانلود گام به گام تمام دروس ✓
- دانلود آزمون های قلم چی و گاج + پاسخنامه ✓
- دانلود جزوه های آموزشی و شب امتحانی ✓
- دانلود نمونه سوالات امتحانی ✓
- مشاوره کنکور ✓
- فیلم های انگیزشی ✓

 [www.ToranjBook.Net](http://www.ToranjBook.Net)

 [ToranjBook\\_Net](https://t.me/ToranjBook_Net)

 [ToranjBook\\_Net](https://www.instagram.com/ToranjBook_Net)



## دبستان پسرانه غیر دولتی امیدنو

پایه: چهارم

نام آموزگار: سرکار خانم خردمند

نام درس: ..اجتماعی.....

نام و نام خانوادگی دانش آموز: .....

### ۱- صحیح یا غلط بودن جملات زیر را مشخص کنید .

- \* موقع خداحافظی با مهمان ها با صدای بلند صحبت نکنیم.  ص  غ
- \* درآمد پولی است که برای زمان نیاز کنار می گذاریم..  ص  غ
- \* به پستی و بلندی های زمین رشته کوه می گویند.  ص  غ
- \* دانشگاه جندی شاپور در زمان خسروانوشیروان ساخته شد.  ص  غ
- \* جنگل های راش و افرا در ناحیه ی معتدل خزری رشد می کنند.  ص  غ
- \* یکی از مناسبت های ملی ما عید فطر است.  ص  غ

### ۲- جاهای خالی را با عبارت مناسب کامل کنید.

- \* پارت ها گروهی از آریایی ها بودند که حکومت ..... را به وجود آوردند.
- \* به کسانی که درباره ی زندگی انسان و آنچه درگذشته اتفاق افتاده، تحقیق کرده و می نویسند،..... می گویند.
- \* به پایین ترین نقطه ی زمین که روبه روی قطب شمال قرار دارد، ..... می گویند.
- \* قله ی دماوند ..... متر ارتفاع دارد.
- \* زبان و خط رسمی ملت ایران ..... نام دارد

### ۳- گزینه ی درست را مشخص کنید.

- \* کدام یک از روز ها در تمامی کشورهای اسلامی تعطیل است؟  
 عید نوروز  عید غدیر  عید قربان  شب یلدا
- \* کدام درخت مربوط به ناحیه ی آب و هوایی گرم و خشک نیست؟  
 درخت گز  درخت نخل  پسته وحشی  پسته کوهی
- \* کدام حکومت سعی کردند آداب و رسوم و خط و زبان یونانی ها را در ایران رواج دهند؟  
 سلوکیان  اشکانیان  هخامنشیان  زرتشتیان
- \* کدام گزینه از امکانات عمومی است؟  
 بوستان  تلفن عمومی  دستگاه خودپرداز  همه ی موارد



## دبستان پسرانه غیر دولتی امیدنو

پایه: چهارم

نام آموزگار: سرکار خانم خردمند

نام درس: ..اجتماعی.....

نام و نام خانوادگی دانش آموز: .....

۴- جملات سمت راست را به عبارت صحیح سمت چپ وصل کنید.

- |             |   |
|-------------|---|
| آتش سوزی    | * کتابی که مقررات مهم کشور در آن آمده است               |
| راه شاهی    | * رشته کوه بسیار بلندی که در شمال ایران کشیده شده است   |
| جدول بودجه  | * مهم ترین و طولانی ترین راه که در زمان داریوش ساخته شد |
| البرز       | * از عوامل از بین رفتن جنگل ها است                      |
| قانون اساسی | * تغییرات زیادی را در زندگی انسان به وجود آورد          |
| کشف آتش     | * جدولی که شامل درآمد، هزینه و پس انداز می شود          |

۵- به سوالات پاسخ دهید؟

\* در مسجد چه کارهایی انجام می شود؟ (۲ مورد)

\* تعطیلات رسمی کشور ایران چند دسته اند؟ نام ببرید؟

\* نشانه های مشترک ملت ایران را نام ببرید؟

\* دو مورد از فعالیت های انسانی که محیط زیست را به خطر می اندازد را نام ببرید؟

\* نواحی آب و هوایی ایران را نام ببرید؟

\* سه پایه ی اصلی دین زرتشت را نام ببرید؟

\* اقدامات مهم داریوش را نام ببرید؟ (۲ مورد)

\* ویژگی های تمدن را نام ببرید؟ (۴ مورد)

\* وسایلی که در جمع آوری اطلاعات به جغرافیدان کمک می کنند را نام ببرید؟ (۳ مورد)

تألیفی در مسیر موفقیت



## دبستان پسرانه غیر دولتی امیدنو

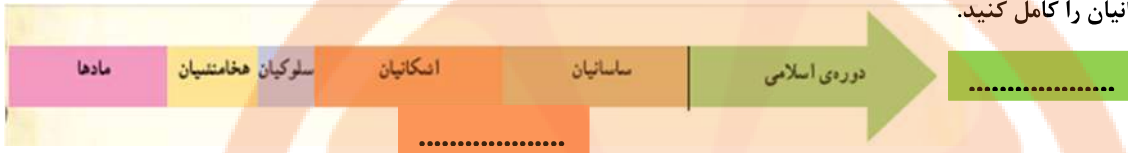
پایه: چهارم

نام آموزگار: سرکار خانم خردمند

نام درس: ..اجتماعی.....

نام و نام خانوادگی دانش آموز: .....

۶- نمودار حکومت ایرانیان را کامل کنید.



۷- هر کدام از این تابلوها پیامی دارند برای هر تابلو تصویر و نشانه ای طراحی کنید.



آتش روشن کردن ممنوع



آتش روشن کردن ممنوع

صید ماهی ممنوع

محل برپا کردن چادر

شکار ممنوع

صید ماهی

محل برپا کردن چادر

۸- پاسخ کوتاه بدهید.

دو دشت مهم ایران؟

دو شغل خدماتی؟

دو جهت فرعی؟

سه گروه آریایی؟

دو عامل مهم در تعیین آب و هوا؟



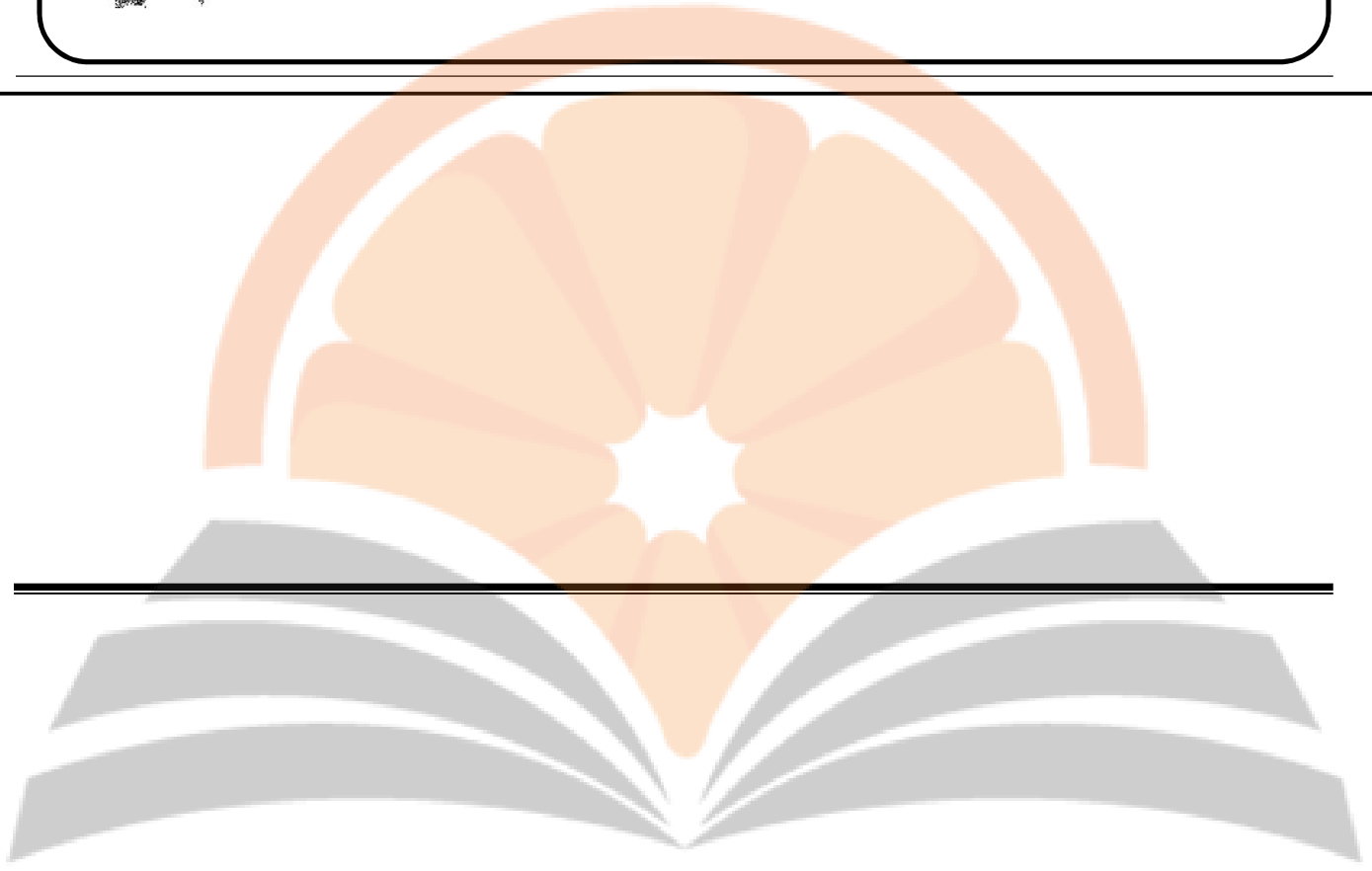
دبستان پسرانه غیر دولتی امیدنو

پایه: چهارم

نام آموزگار: سرکار خانم خردمند

نام درس: ..اجتماعی.....

نام و نام خانوادگی دانش آموز: .....



پنجم بزرگ  
تلاشی در مسیر موفقیت


تلاشی در مسیر موفقیت



- دانلود گام به گام تمام دروس ✓
- دانلود آزمون های قلم چی و گاج + پاسخنامه ✓
- دانلود جزوه های آموزشی و شب امتحانی ✓
- دانلود نمونه سوالات امتحانی ✓
- مشاوره کنکور ✓
- فیلم های انگیزشی ✓

 [www.ToranjBook.Net](http://www.ToranjBook.Net)

 [ToranjBook\\_Net](https://t.me/ToranjBook_Net)

 [ToranjBook\\_Net](https://www.instagram.com/ToranjBook_Net)