

تلاشی در مسیر موفقیت



- دانلود گام به گام تمام دروس ✓
- دانلود آزمون های قلم چی و گاج + پاسخنامه ✓
- دانلود جزوه های آموزشی و شب امتحانی ✓
- دانلود نمونه سوالات امتحانی ✓
- مشاوره کنکور ✓
- فیلم های انگیزشی ✓

🌐 Www.ToranjBook.Net

✉ [ToranjBook_Net](https://www.instagram.com/ToranjBook_Net)

📷 [ToranjBook_Net](https://www.instagram.com/ToranjBook_Net)

راهنمای حل فصل ۲ فیزیک دوازدهم رشته ریاضی و فیزیک

منطبق بر کتاب درسی



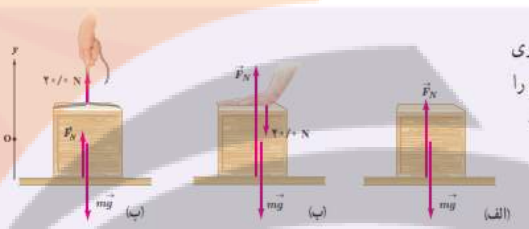
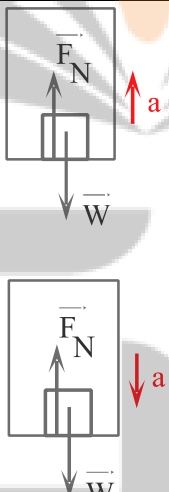
دینامیک و حرکت دایره ای

صفحه pdf	صفحه کتاب درسی	فعالیت / پرسش / تمرین / مسائل	
		۱-۲ - قوانین حرکت نیوتون	
۱	۳۱	پرسش ۱-۲	۱
۱	۳۱	پرسش ۲-۲	۲
۱	۳۱	فعالیت ۱-۲	۳
۲	۳۲	پرسش ۳-۲	۴
۲	۳۲	پرسش ۴-۲	۵
۲	۳۵	پرسش ۵-۲	۶
	۳۵	۲-۲ معرفی برخی از نیروهای خاص	
۲	۳۶	تمرین ۱-۲	۷
۳	۳۷	تمرین ۲-۲	۸
۳	۳۸	تمرین ۳-۲	۹
۴-۳	۳۹	پرسش ۶-۲	۱۰
۴	۴۰	پرسش ۷-۲	۱۱
۴	۴۱	تمرین ۴-۲	۱۲
۵	۴۱	آزمایش ۱-۲	۱۳
۶-۵	۴۲	فعالیت ۲-۲	۱۴
۶	۴۲	فعالیت ۳-۲	۱۵
۶	۴۳	تمرین ۵-۲	۱۶
۷-۶	۴۳	فعالیت ۴-۲	۱۷
۷	۴۵	تمرین ۶-۲	۱۸
۸-۷	۵۷	پرسش و مسئله ها آخر فصل- ۱	۱۹
۸	۵۷	پرسش و مسئله ها آخر فصل- ۲	۲۰
۹	۵۷	پرسش و مسئله ها آخر فصل- ۳	۲۱
۱۰	۵۷	پرسش و مسئله ها آخر فصل- ۴	۲۲
۱۱	۵۷	پرسش و مسئله ها آخر فصل- ۵	۲۳
۱۴-۱۳-۱۲-۱۱	۵۷	پرسش و مسئله ها آخر فصل- ۶	۲۴
۱۵	۵۷	پرسش و مسئله ها آخر فصل- ۷	۲۵
۱۶-۱۵	۵۸	پرسش و مسئله ها آخر فصل- ۸	۲۶
۱۷	۵۸	پرسش و مسئله ها آخر فصل- ۹	۲۷
۱۸-۱۷	۵۸	پرسش و مسئله ها آخر فصل- ۱۰	۲۸

۱۸	۵۸	پرسش و مسئله ها آخر فصل- ۱۱	۲۹
۱۹	۵۸	پرسش و مسئله ها آخر فصل- ۱۲	۳۰
۲۰	۵۸	پرسش و مسئله ها آخر فصل- ۱۳	۳۱
۲۰	۵۸	پرسش و مسئله ها آخر فصل- ۱۴	۳۲
۲۰	۵۸	پرسش و مسئله ها آخر فصل- ۱۵	۳۳
	۴۶	۲-۳ تکانه و قانون دوم نیوتون	
۲۱	۴۷	تمرین ۲-۷	۳۴
۲۱	۵۹	پرسش و مسئله ها آخر فصل- ۱۶	۳۵
۲۱	۵۹	پرسش و مسئله ها آخر فصل- ۱۷	۳۶
		۲-۴ حرکت دایره ای بکنواخت	
۲۲	۴۹	پرسش ۲-۸	۳۷
۲۲	۴۹	پرسش ۲-۹	۳۸
۲۲	۵۱	تمرین ۲-۸	۳۹
۲۲	۵۱	پرسش ۲-۱۰	۴۰
۲۳	۵۲	تمرین ۲-۹	۴۱
۲۳	۵۳	تمرین ۲-۱۰	۴۲
۲۳	۵۹	پرسش و مسئله ها آخر فصل- ۱۸	۴۳
۲۴	۵۹	پرسش و مسئله ها آخر فصل- ۱۹	۴۴
	۵۳	۲-۵ نیروی گرانشی	
۲۶-۲۵	۵۴	فعالیت ۲-۵	۴۵
۲۶	۵۶	تمرین ۲-۱۱	۴۶
۲۷	۵۶	پرسش ۲-۱۱	۴۷
۲۷	۵۶	تمرین ۲-۱۲	۴۸
۲۸-۲۷	۵۶	تمرین ۲-۱۳	۴۹
۲۸	۵۹	پرسش و مسئله ها آخر فصل- ۲۰	۵۰
۲۸	۶۰-۵۹	پرسش و مسئله ها آخر فصل- ۲۱	۵۱
۲۹-۲۸	۶۰	پرسش و مسئله ها آخر فصل- ۲۲	۵۲
۲۹	۶۰	پرسش و مسئله ها آخر فصل- ۲۳	۵۳
۳۰-۲۹	۶۰	پرسش و مسئله ها آخر فصل- ۲۴	۵۴

<p>نیروی شناوری و نیروی وزن اثر یکدیگر را خنثی می کنند. نیروی پیشران و نیروی مقاومت اثر یکدیگر را خنثی می کنند.</p>	<p>پرسش ۱-۲</p> <p>در شکل روبه‌رو یک کشتی در حال حرکت را می‌بینید که نیروهای وارد بر آن متوازن‌اند. کدام نیروها اثر یکدیگر را خنثی کرده‌اند؟</p> 
<p>خیر - بر طبق قانون اول نیوتن، وقتی برآیند نیروهای وارد بر جسم صفر باشد. جسم در حال حرکت با سرعت ثابت، حرکت خود را حفظ می کند.</p>	<p>پرسش ۲-۲</p> <p>در فیلمی علمی - تخیلی، موتور یک کشتی فضایی که در فضای تهی خارج از جو زمین و دور از هر سیاره و خورشید در حرکت است، از کار می افتند. در نتیجه حرکت کشتی فضایی کند می‌شود و می‌ایستد. آیا امکان وقوع چنین رویدادی وجود دارد؟ توضیح دهید.</p>
<p>نمونه هایی از آزمایش های ذهنی گالیله</p> <p>قانون آونگ گالیله - سقوط اجسام به وزن آنها بستگی ندارد - قاصد آسمان - نظریه خورشید محور و زمین محور - آزمایش گالیله و سطح شیبدار</p> <p>*** اجسام به وزن آنها بستگی ندارد</p> <p>گالیله بر این باور بود که آزمایش های تجربی برای کشف قوانین طبیعت بر باورهای ذهنی و استدلال های منطقی برتری دارند. او به بالای برج مشهور و کج پیزا رفت و دو جسم با جرم های مختلف را رها کرد و نشان داد در غیاب مقاومت هوا آن دو با هم سقوط خواهند کرد.</p>  <p>از دیدگاه ارسطو از دیدگاه گالیله</p> 	<p>فعالیت ۱-۲</p> <p>درباره آزمایش ذهنی گالیله تحقیق کنید و به کلاس گزارش دهید.</p>

<p>الف) برطبق قانون اول نیوتن، جسم تمایل دارد وضعیت سکون خود را حفظ نماید. که با حرکت سریع مقوا، سکه به داخل لیوان می افتد.</p> <p>ب) هنگامی که به آرامی بکشیم، نیرو انتقال می یابد و نخ از قسمت بالای گوی جدا می گردد. در کشش سریع، لختی جرم گلوله سبب می شود که در بازه زمانی کوتاه فرصت انتقال ضربه به نخ بالایی وجود ندارد. در نتیجه نخ پایین پاره می شود.</p>	<p>پرسش ۲-۲</p> <p>الف) چرا حرکت سریع مقوا در شکل الف، سبب افتادن سکه در لیوان می شود؟</p> <p>ب) چرا در شکل ب، اگر به آرامی نیروی وارد بر گوی سنگین را زیاد کنیم نخ بالای گوی پاره می شود، اما اگر ناگهان نخ را بکشیم، نخ پایین آن پاره می شود؟</p> 
<p>در سه شکل سمت راست:</p> <p>با ثابت ماندن اندازه جرم جسم و با افزایش نیرو، مقدار شتاب جسم افزایش می یابد. یعنی نیرو با شتاب متناسب است.</p> <p>در شکل های سمت چپ:</p> <p>با ثابت ماندن اندازه نیرو و افزایش جرم جسم، مقدار شتاب جسم کاهش می یابد. یعنی شتاب جسم با جرم آن نسبت وارون دارد.</p>	<p>پرسش ۴-۲</p> <p>در شکل های زیر، قطعه یخ ها روی یک سطح افقی بدون اصطکاک قرار دارند. استنباط خود را از این شکل ها بیان کنید.</p> 
<p>چون جرم جعبه از جرم شخص کمتر است و نیرو برای حرکت دادن آن مناسب است.</p>	<p>پرسش ۵-۲</p> <p>شخصی در حال هل دادن جعبه ای سنگین روی سطح افقی است و این جعبه در جهت این نیرو حرکت می کند. با توجه به آنکه نیروی که شخص به جعبه وارد می کند با نیروی که جعبه به شخص وارد می کند هم اندازه است، توضیح دهید چگونه جعبه حرکت می کند؟</p>
	<p>۲-۲ معرفی برخی از نیروهای خاص</p>
<p>$W = mg_{\text{زمین}} \rightarrow W_1 = (0.1 \text{ kg})(9.8 \text{ N/kg}) = 0.98 \text{ N}$</p> <p>$W = mg_{\text{ماه}} \rightarrow W_2 = (0.1 \text{ kg})(1.6 \text{ N/kg}) = 0.16 \text{ N}$</p> <p>$W = mg_{\text{مریخ}} \rightarrow W_3 = (0.1 \text{ kg})(3.7 \text{ N/kg}) = 0.37 \text{ N}$</p> <p>$W_1 > W_3 > W_2$</p>	<p>تمرین ۱-۲</p> <p>الف) وزن قطعه ای طلا به جرم ۱۰۰ گرم را روی سطح زمین به دست آورید.</p> <p>ب) وزن یک جسم در سطح یک سیاره برابر با نیروی گرانشی است که از طرف آن سیاره بر جسم وارد می شود. وزن این قطعه طلا را در سطح ماه و مریخ به دست آورید و با هم مقایسه کنید. ($g_{\text{مریخ}} = 3.7 \text{ N/kg}$, $g_{\text{ماه}} = 1.6 \text{ N/kg}$, $g_{\text{زمین}} = 9.8 \text{ N/kg}$)</p>

$a = g - \frac{f_D}{m} \xrightarrow{f_D=0} a = g$ $V^2 - V_0^2 = 2g\Delta y \rightarrow V^2 - 0 = 2gh \rightarrow V = \sqrt{2gh}$ <p>سرعت برخورد گلوله ها با زمین با جرم گلوله ها وابسته نیست. $V_1 = V_2$</p>	<p>مثال ۵-۲</p> <p>دو گوی هم اندازه را که جرم یکی دو برابر دیگری است ($m_1 = 2m_2$) از بالای برجی به ارتفاع h به طور هم زمان رها می کنیم. با فرض اینکه نیروی مقاومت هوا در طی حرکت دو گوی ثابت و یکسان باشند، تندی برخورد کدام گوی با زمین بیشتر است؟</p> <p>تمرین ۲-۲</p> <p>اگر در مثال ۵-۲ از مقاومت هوا صرف نظر کنیم، سرعت برخورد گوی ها با زمین را با هم مقایسه کنید.</p>	<p>۸</p>
<p>(الف) $F_N = mg = 4\text{kg} \times 9.8\text{N/kg} = 39.2\text{N}$</p> <p>(ب) $F_N = mg + F' = 4\text{kg} \times 9.8\text{N/kg} + 20\text{N} = 59.2\text{N}$</p> <p>(پ) $F_N + F' = mg \rightarrow F_N + 20\text{N} = 4\text{kg} \times 9.8\text{N/kg}$</p> <p>$F_N = 39.2\text{N} - 20\text{N} = 19.2\text{N}$</p>	<p>تمرین ۳-۲</p> <p>همانند شکل، جعبه ای به جرم 4kg روی میزی افقی قرار دارد. نیروی عمودی سطح را در حالت های نشان داده شده به دست آورید.</p> 	<p>۹</p>
<p>(الف) $F_N - mg = ma$</p> <p>$\rightarrow F_N = m(g + a) \rightarrow F_N > mg$</p> <p>در این حالت ترازو، عددی بزرگ تر از اندازه ی وزن را نشان می دهد.</p> <p>(ب) $F_N - mg = -ma$</p> <p>$\rightarrow F_N = m(g - a) \rightarrow F_N < mg$</p> <p>در این حالت ترازو، عددی کوچکتری از اندازه ی وزن را نشان می دهد.</p> 	<p>پرسش ۶-۲</p> <p>در مثال ۶-۲، در هر یک از حالت های زیر، عددی را که ترازوی فنری نشان می دهد با وزن شخص مقایسه کنید.</p> <p>(الف) آسانسور به طرف بالا شروع به حرکت کند.</p> <p>(ب) آسانسور به طرف پایین شروع به حرکت کند.</p> <p>(پ) آسانسور در حالی که به طرف بالا حرکت می کند، متوقف شود.</p> <p>(ت) آسانسور در حالی که به طرف پایین حرکت می کند، متوقف شود.</p>	<p>۱۰</p>

<p>(پ)</p> $F_N - mg = -ma$ $\rightarrow F_N = m(g - a) \rightarrow F_N < mg$ <p>در این حالت ترازو، عددی کوچکتری از اندازه ی وزن را نشان می دهد.</p> <p>(ت)</p> $F_N - mg = ma$ $\rightarrow F_N = m(g + a) \rightarrow F_N > mg$ <p>در این حالت ترازو، عددی بیشتر از اندازه ی وزن را نشان می دهد.</p>	
<p>الف) وقتی ما شروع به حرکت می کنیم، پاهایمان نیروی به سمت عقب وارد می کند. طبق قانون سوم نیوتن، نیروی هم اندازه و در خلاف جهت بر آن وارد می شود که اصطکاک نام دارد و سبب می شود که به سمت جلو حرکت کنیم.</p> <p>ب) زیرا ناهمواری ها کم تر می باشد که در نتیجه اصطکاک بین فرد و زمین کم شده و سبب سر خوردن می شود و راه رفتن دشوار می گردد.</p>	<p>پوشش ۲-۷</p> <p>الف) بر اساس قانون سوم نیوتون و آنچه از اصطکاک آموختید، توضیح دهید راه رفتن با شروع از حالت سکون چگونه انجام می شود؟ ب) چرا راه رفتن روی یک سطح شیب مانند سطح یخ به سختی ممکن است؟</p>
<p>الف)</p> $\rightarrow F_1 - f_s = ma = 0 \rightarrow F_1 = f_s = 4\text{ N}$ <p>ب)</p> $\rightarrow F_2 - f_s = ma = 0 \rightarrow F_2 = f_s = 8\text{ N}$ <p>ب)</p> $\rightarrow F_3 - f_s = ma = 0 \rightarrow F_3 = f_s = 16\text{ N}$ <p>ب)</p> $f_{s,\max} = \mu_s N \rightarrow \mu_s = \frac{f_{s,\max}}{mg} = \frac{16\text{ N}}{4\text{ kg} \times 9.8\text{ N/kg}} = 0.4$	<p>تمرین ۲-۴</p> <p>اگر در شکل ۲-۱۲، جرم جسم ۴/۰ kg و بزرگی نیروها $F_1 = 4/0\text{ N}$، $F_2 = 8/0\text{ N}$ و $F_3 = 16/0\text{ N}$ باشد، الف) بزرگی نیروهای اصطکاک ایستایی در هر حالت چقدر است؟ ب) ضریب اصطکاک ایستایی را پیدا کنید.</p>

ضریب اصطکاک ایستایی تغییر نمی کند. زیرا ضریب اصطکاک به اندازه ی مساحت سطح تماس جسم بستگی ندارد.



آزمایش ۲-۱: اندازه گیری ضریب اصطکاک ایستایی بین دو جسم
وسایل لازم: نیروسنج، قطعه چوبی به شکل مکعب مستطیل با وجوه یکنواخت، ترازو، خط کش
شرح آزمایش:
۱- مکعب چوبی را از طرف وجه بزرگ آن، روی سطح افقی میز قرار دهید.

- ۲- نیروسنج را مانند شکل به مکعب چوبی وصل کنید و سر دیگر نیروسنج را با دست بگیرید و به طور افقی بکشید.
- ۳- نیروی دستتان را به آرامی افزایش دهید تا جایی که مکعب چوبی در آستانه لغزیدن قرار گیرد. در این حالت عددی را که نیروسنج نشان می دهد، در جدول یادداشت کنید (برای اینکه دقت شما افزایش یابد لازم است آزمایش را چند بار تکرار کنید).
- ۴- اکنون مکعب چوبی را از طرف وجه کوچک تر روی سطح قرار دهید و مراحل ۲ و ۳ را تکرار کنید.
- ۵- با اندازه گیری جرم مکعب چوبی و استفاده از رابطه ۲-۴ مقدار μ_s را در هر آزمایش محاسبه و در جدول یادداشت کنید.

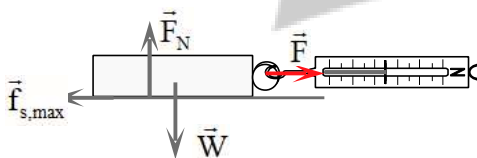
وزن قطعه:	مساحت سطح تماس قطعه با میز	شماره آزمایش
عددی که نیروسنج نشان می دهد ($f_{s,max}$)		
μ_s		

همراه با اعضای گروه خود، نتیجه های به دست آمده را تفسیر کنید.

۱۳

وسایل لازم: نیروسنج- قطعه های چوبی مختلف - ترازو

شرح آزمایش:



۱- مکعب چوبی را از یک وجه روی سطح افقی قرار دهید.

۲) نیروسنج را به مکعب چوبی وصل کرده و سر دیگر نیروسنج را در دست گرفته و بکشید.

وقتی جسم در آستانه لغزیدن قرار می گیرد عددی که نیروسنج نشان می دهد نیروی اصطکاک ایستایی بیشینه ($f_{s,max}$) است.

۳) جرم جسم را با ترازو اندازه گیری کرده و از رابطه $F_N = mg$ مقدار نیروی عمودی محاسبه کنید.

۴- این بار آزمایش را با ۲ قطعه چوبی روهم انجام دهید. عددی که نیرو سنج نشان می دهد بیشتر می شود.

۵) آزمایش را با تعداد بیشتر قطعه چوبی انجام دهید. باز هم نیروسنج عدد بیشتر را نشان می دهد.

۶) اعداد بدست آمده از نیروسنج را بر وزن تقسیم می کنیم.

نتیجه:

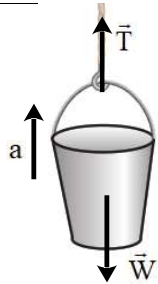
فعالیت ۲-۲

آزمایشی طراحی کنید که نشان دهد $f_{s,max}$ متناسب با F_N است.

۱۴

<p>نیروی اصطکاک ایستایی بیشینه با مقدار وزن جسم رابطه مستقیم دارد و با تقسیم این نیرو بر وزن عدد ثابتی بدست می آید.</p>	
<p>الف) به کمک یک نیروسنج، قطعه چوب را می کشیم تا حرکت کند. در بازه زمانی که قطعه چوب با سرعت ثابت در حال حرکت است، اندازه ی نیروی که نیرو سنج نشان می دهد برابر است با نیروی اصطکاک جنبشی، در نتیجه خواهیم داشت.</p>  $F - f_k = ma \rightarrow F - f_k = 0 \rightarrow F = f_k$ $F = f_k = \mu_k mg \rightarrow \mu_k = \frac{F}{mg}$ <p>نیروی F از روی نیروسنج و m را به کمک ترازو بدست می آوریم.</p> <p>ب) از وجه دیگر قطعه چوب، آزمایش را تکرار می کنیم. و سعی می کنیم با سرعت ثابت با نیروسنج قطعه چوب را بکشیم. عددی که نیروسنج نشان می دهد در این شرایط تقریباً برابر حالت قبل می باشد. نیروی اصطکاک جنبشی به مساحت سطح تماس بستگی ندارد.</p>	<p>فعالیت ۳-۲</p> <p>آزمایشی طراحی کنید که با آن بتوانید:</p> <p>الف) نیروی اصطکاک جنبشی وارد بر جسمی مانند یک قطعه چوب در حال لغزش روی سطح را اندازه بگیرید و با استفاده از آن μ_k را به دست آورید.</p> <p>ب) بستگی یا عدم بستگی نیروی اصطکاک جنبشی به مساحت سطح تماس دو جسم را تحقیق کنید.</p>
<p>$F - f_{s,max} = ma = 0 \rightarrow F = f_{s,max} = \mu_s F_N = \mu_s mg$</p> <p>$\rightarrow F = f_{s,max} = 0.6 \times 75 \text{ kg} \times 9.8 \text{ N/kg} = 441 \text{ N}$</p>	<p>تمرین ۵-۲</p> <p>در مثال قبل اگر ضریب اصطکاک ایستایی بین جعبه و زمین ۰/۶۰۰ و جسم در ابتدا ساکن باشد، حداقل نیروی افقی لازم برای به حرکت درآوردن جعبه چقدر است؟</p>
<p>الف) تعدادی فنر با ضخامت های مختلف تهیه می کنیم. هر چه فنر انعطاف پذیر تر باشد. سختی (K) کوچکتر و برای فنر سفت (K) بیشتر است.</p> <p>ب) فنر را مطابق شکل (۱) به سقف آویزان می کنیم و سپس به انتهای آن، وزنه ای با جرم مشخص آویزان می نمایم. در حالت تعادل، به کمک خط کش، تغییرات طول فنر را اندازه می گیریم.</p> <p>با توجه به این مطلب که، نیروی که از طرف فنر به وزنه وارد می شود با نیروی که از طرف زمین به جسم وارد می شود برابر است. خواهیم داشت.</p>  $F_e = w \rightarrow k\Delta y = mg \rightarrow k = \frac{mg}{\Delta y}$	<p>فعالیت ۴-۲</p> <p>تعدادی فنر متفاوت تهیه کنید. الف) سختی آنها را مقایسه کنید. ب) با طراحی یک آزمایش، ثابت هر فنر را به دست آورید.</p>

سپس در چندین نوبت فنرهای مختلف را مطابق شکل آزمایش کرده و هر بار با توجه به رابطه $k = \frac{mg}{\Delta y}$ مقدار k را بدست می آوریم. همچنین می توان آزمایش را با جرم های مختلف تکرار کرد، و k های مختلفی را بدست آورد. از اعداد بدست آمده میانگین گرفته و عدد دقیقتری برای k بدست آورد.



$$T - mg = ma$$

$$T - 16\text{kg} \times 9.8\text{N/kg} = 10.0\text{kg} \times 1.2\text{N/kg}$$

$$T = 156.8\text{N} + 12.0\text{N} = 168.8\text{N}$$

نمرین ۲-۶



کارگری یک سطل محتوی مصالح به جرم 160kg را با طناب سبکی به طرف بالا می کشد. اگر طناب رو به بالای سطل $1/2\text{m/s}^2$ بماند، نیروی کنش طناب جقدر است؟

۱۸

۱-۲ و ۲-۲ قوانین حرکت نیوتون و معرفی برخی از نیروهای خاص

۱. سیبی را در نظر بگیرید که به شاخه درختی آویزان است و سپس از درخت جدا می شود.

الف) با رسم شکل نیروهای وارد بر سیب را قبل و بعد از جداسدن از درخت نشان دهید. ب) در هر حالت واکنش این نیروها بر چه اجسامی وارد می شود؟

۱۹

الف)



\vec{F}_{23} نیروی که از طرف شاخه به سیب وارد می شود.

۳ شاخه جسم

۲ سیب جسم

\vec{F}_{12} نیروی که از طرف زمین به سیب وارد می شود.

زمین جسم ۱

واکنش

کنش

نیروی که از طرف زمین به سیب وارد می شود.

نیروی که از طرف شاخه به سیب وارد می شود.

<p>(ب)</p>	<p>نیروی که از طرف زمین به سیب وارد می شود.</p>
<p>واکنش</p>	<p>کنش</p>
<p>نیروی که از طرف سیب به زمین وارد می شود.</p>	<p>نیروی که از طرف زمین به سیب وارد می شود.</p>
<p>نیروی که از طرف سیب به هوا وارد می شود.</p>	<p>نیروی که از طرف هوا به سیب وارد می شود.</p>

<p>الف) برطبق قانون اول نیوتون (لختی) جسم تمایل دارد حالت سکون و یا حرکت یکنواخت خود را بر روی خط راست حفظ کند. در حالتی که خودرو ناگهان شروع به حرکت می کند، خودرو به سمت جلو رفته و اجسام داخل خودرو تمایل دارند حالت خود را حفظ کنند. به همین دلیل شخص به صندلی فشرده می شود. در حالتی که خودرو ناگهان توقف می کند، اجسام داخل خودرو تمایل دارند حالت رو به جلوی خود را حفظ کنند در نتیجه اجسام به سمت جلو پرت می شوند. ب) در هنگام توقف یا ترمز ناگهانی اتومبیل، سرنشین بنا بر خاصیت لختی در مسیر حرکت به راه خود ادامه می دهد و بسمت شیشه جلو پرتاب می شود. کمربند ایمنی و یا کیسه ی هوا، سرنشین را با خودرو یک پارچه می کند و شتاب حرکت سرنشین در رخدادهای ناگهانی شتاب خودرو می شود.</p>	<p>۲۰</p> <p># وقتی در خودروی ساکنی نشسته‌اید و خودرو ناگهان شروع به حرکت می کند، به صندلی فشرده می شوید. همچنین اگر در خودروی در حال حرکتی نشسته باشید، در توقف ناگهانی به جلو پرتاب می شوید. الف) علت این پدیده‌ها را توضیح دهید. ب) نقش کمربند ایمنی و کیسه هوا در کم شدن آسیب‌ها در تصادف‌ها را بیان کنید.</p>
---	--

نزدیک ببولک

تلاشی در مسیر موفقیت

$$F_N - mg = 0 \rightarrow F_N = mg$$

$$\rightarrow F_N = 50 \text{ kg} \times 9.8 \text{ N/kg} = 490 \text{ N}$$

$$F_N - mg = ma = 0 \rightarrow F_N = mg$$

$$\rightarrow F_N = 50 \text{ kg} \times 9.8 \text{ N/kg} = 490 \text{ N}$$

$$F_N - mg = ma \rightarrow F_N = m(g + a)$$

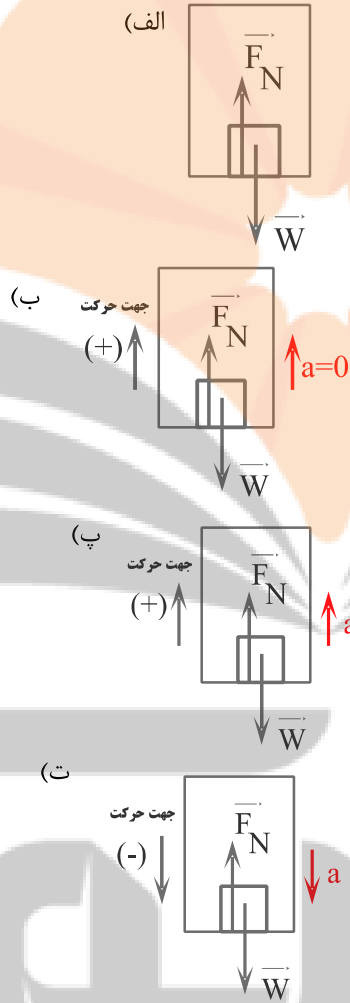
$$F_N = 50 \text{ kg} (9.8 \text{ N/kg} + 1.2 \text{ N/kg})$$

$$F_N = 550 \text{ N}$$

$$F_N - mg = -ma \rightarrow F_N = m(g - a)$$

$$F_N = 50 \text{ kg} (9.8 \text{ N/kg} - 1.2 \text{ N/kg})$$

$$F_N = 430 \text{ N}$$



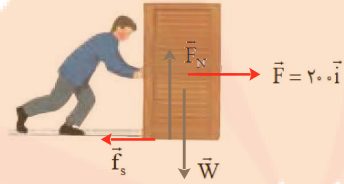
۳۳. دانش آموزی به جرم 50 kg روی یک ترازوی فنری در آسانسور ایستاده است. در هر یک از حالت های زیر این ترازو چند نیوتون را نشان می دهد؟ ($g=9.8 \text{ N/kg}$)

الف) آسانسور ساکن است.
ب) آسانسور با سرعت ثابت حرکت می کند.
پ) آسانسور با شتاب 1.2 m/s^2 به طرف بالا شروع به حرکت می کند.
ت) آسانسور با شتاب 1.2 m/s^2 به طرف پایین شروع به حرکت می کند.

(الف) جسم ساکن است.

$$F - f_s = 0$$

$$\rightarrow f_s = F = 200 \text{ N}$$



(ب) جسم در آستانه حرکت است.

$$F - f_{s,max} = 0$$

$$\rightarrow f_{s,max} = F = \mu_s F_N$$

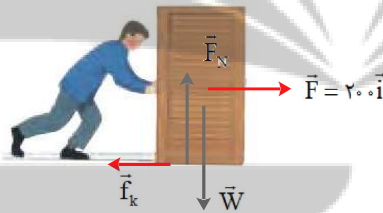
$$\mu_s = \frac{F}{mg} = \frac{200 \text{ N}}{90 \text{ kg} \times 9.8 \text{ N/kg}} = 0.22$$

(پ) جسم در با شتاب ثابت در حرکت است.

$$F - f_k = ma$$

$$F - \mu_k mg = ma \rightarrow$$

$$200 \text{ N} - 0.2 \times 90 \text{ kg} \times 9.8 \text{ N/kg} = 90 \text{ kg} a \rightarrow a = 0.4 \text{ N/kg}$$



۱۴. در شکل نشان داده شده، شخص با نیروی $F = 200 \text{ N}$ جسم 90 kg کیلوگرمی را هل می‌دهد، اما جسم ساکن می‌ماند. ولی وقتی با نیروی $F = 300 \text{ N}$ جسم را هل می‌دهد، جسم در آستانه حرکت قرار می‌گیرد.

(الف) نیروی اصطکاک ایستایی بین جسم و سطح در هر حالت چقدر است؟

(ب) ضریب اصطکاک ایستایی بین جسم و سطح چقدر است؟

(پ) اگر پس از حرکت، شخص با نیروی $F = 200 \text{ N}$ جسم را هل دهد و ضریب اصطکاک جنبشی بین سطح و جسم $\mu_k = 0.2$ باشد، شتاب حرکت جسم چقدر خواهد شد؟

تلاش‌های موفقیت

(الف)

$$F_{1e} = m_1g \rightarrow k(L_1 - L_0) = m_1g \quad (1)$$

$$F_{2e} = m_2g \rightarrow k(L_2 - L_0) = m_2g \quad (2)$$

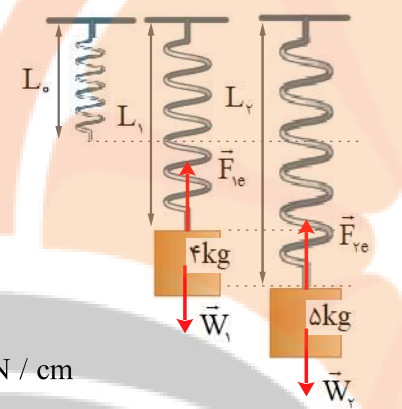
$$(m_2 - m_1)g = k(L_2 - L_1)$$

$$\rightarrow k = \frac{(m_2 - m_1)g}{(L_2 - L_1)}$$

$$\rightarrow k = \frac{(\Delta kg - 4kg) \times 9.8 \text{ N/kg}}{(15\text{cm} - 14\text{cm})} = 9.8 \text{ N/cm}$$

(ب)


$$k(L_1 - L_0) = m_1g \rightarrow 9.8 \text{ (N/cm)}(14\text{cm} - L_0) = 4kg \times 9.8 \text{ N/kg} \rightarrow L_0 = 10 \text{ cm}$$



۳. در شکل روبه‌رو وقتی وزنه 4 kg را به فنر آویزان می‌کنیم، طول فنر 14 cm می‌شود، و وقتی وزنه 5 kg را به فنر آویزان می‌کنیم، طول فنر 15 cm می‌شود.

الف) ثابت فنر چقدر است؟ (ب) طول عادی فنر (بدون وزنه) چند سانتی‌متر است؟

(الف)



واکنش	کنش
نیروی که زمین وارد می‌کند. \vec{W}'	نیروی که زمین به خودرو وارد می‌کند. \vec{W}
نیروی عمودی که خودرو بر سطح جاده وارد می‌کند. \vec{F}'_N	نیروی عمودی تکیه‌گاه سطح جاده به خودرو وارد می‌کند. \vec{F}_N
در وضعیت لغزش، نیروی موازی سطح از طرف خودرو در جهت حرکت به زمین وارد می‌شود. \vec{f}'_k	در وضعیت لغزش، نیروی موازی سطح از طرف زمین در خلاف جهت حرکت به خودرو وارد می‌شود. \vec{f}_k
نیروی که از طرف خودرو به مولکول‌های هوا در جهت حرکت وارد می‌شود. \vec{f}'	نیروی که از مولکول‌های هوا به خودرو در خلاف جهت حرکت وارد می‌شود. \vec{f}

۴. در هر یک از موارد زیر، نیروهای وارد بر جسم را مشخص کنید. واکنش هر یک از این نیروها به چه جسمی وارد می‌شود؟

الف) خودرویی با سرعت ثابت در یک مسیر مستقیم افقی در حال حرکت است.

ب) گشتی‌ای با سرعت ثابت در حال حرکت است.

پ) قایقرانی در حال پارو زدن است.

ت) چتربازی در هوای آرام و در امتداد قائم در حال سقوط است.

ث) هواپیمایی در یک سطح پروازی افقی با سرعت ثابت در حال حرکت است.

ج) تویی در راستای قائم به زمین برخورد می‌کند و برمی‌گردد.

<p>نیروی شناوری F_b نیروی پشیران F نیروی مقاومت F' نیروی وزن W</p>	(ب)
واکنش	کنش
نیروی که کشتی به زمین وارد می کند. \vec{W}'	نیروی که زمین به کشتی وارد می کند. \vec{W}
نیروی که از طرف کشتی به آب وارد می شود. \vec{F}'_b	نیروی که از طرف آب (نیروی شناوری) به کشتی وارد می شود. \vec{F}_b
نیروی که در جهت حرکت کشتی به آب و مولکول های هوا وارد می شود. \vec{f}'	نیروی که در جهت مخالف حرکت از طرف آب و مولکول های هوا به سطح کشتی وارد می شود. \vec{f}
<p>نیروی شناوری F_b نیروی وزن W نیروی که از طرف آب به قایق F جهت حرکت F''</p>	(پ)
واکنش	کنش
نیروی که قایق به زمین وارد می کند. \vec{W}'	نیروی که زمین به قایق وارد می کند. \vec{W}
نیروی که از طرف قایق به آب وارد می شود. \vec{F}'_b	نیروی که از طرف آب (نیروی شناوری) به قایق وارد می شود. \vec{F}_b
نیروی که در جهت حرکت قایق به آب و مولکول های هوا وارد می شود. \vec{f}'	نیروی موازی در جهت مخالف حرکت از طرف آب و مولکول های هوا به سطح قایق وارد می شود. \vec{f}
نیروی که از طرف آب به پارو وارد می کند. \vec{F}'	نیروی که از طرف آب به پارو وارد می کند. \vec{F}

۴. در هر یک از موارد زیر، نیروهای وارد بر جسم را مشخص کنید. واکنش هر یک از این نیروها به چه جسمی وارد می شود؟
 الف) خودرویی با سرعت ثابت در یک مسیر مستقیم افقی در حال حرکت است.
 ب) کشتی ای با سرعت ثابت در حال حرکت است.
 پ) قایقرانی در حال پارو زدن است.
 ن) چتربازی در هوای آرام و در امتداد قائم در حال سقوط است.
 ت) هواپیمایی در یک سطح پروازی افقی با سرعت ثابت در حال حرکت است.
 ج) تویی در راستای قائم به زمین برخورد می کند و برمی گردد.

فاز ۱

تلاشی در مسیر موفقیت

(ت)



واکنش

کنش

نیروی که چترباز به زمین وارد می کند. \vec{W}'

نیروی که زمین به چترباز وارد می کند. \vec{W}

نیروی که از طرف چترباز به مولکولهای هوا وارد می شود. \vec{F}'_b

نیروی که از طرف مولکولهای هوا به چترباز وارد می شود. \vec{F}_b

(ت)



واکنش

کنش

نیروی که هواپیما به زمین وارد می کند. \vec{W}'

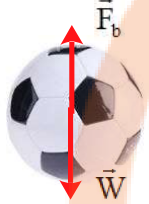

نیروی که زمین به هواپیما وارد می کند. \vec{W}

نیروی که از طرف هواپیما به مولکولهای هوا وارد می شود. \vec{F}'_b

نیروی که از طرف مولکولهای هوا رو به بالا (نیروی شناوری) به هواپیما وارد می شود. \vec{F}_b

نیروی که در جهت مخالف حرکت مولکول های هوا به سطح هواپیما وارد می شود. \vec{f}'

نیروی که در جهت مخالف حرکت از مولکول های هوا به سطح هواپیما وارد می شود. \vec{f}

 <p>(ج)</p>	
قبل از برخورد:	
واکنش	کنش
نیروی که زمین به توپ وارد می کند. \vec{W}'	نیروی که زمین به توپ وارد می کند. \vec{W}
نیروی که از طرف مولکول های هوا وارد می شود. \vec{F}_b'	نیروی که از طرف مولکول های هوا رو به بالا به توپ وارد می شود. \vec{F}_b
 <p>نیروی مقاومت هوا</p>	
بعد از برخورد:	
نیروی که زمین به توپ وارد می کند. \vec{W}'	نیروی که زمین به توپ وارد می کند. \vec{W}
نیروی که از طرف مولکول های هوا وارد می شود. \vec{F}_b'	نیروی که از طرف مولکول های هوا رو به پایین به توپ وارد می شود. \vec{F}_b

<p>(الف) $v_0 = 72 \text{ km/h} = 72 \div 3.6 \text{ m/s} = 20 \text{ m/s}$</p> <p>$v^2 - v_0^2 = 2a\Delta x \rightarrow 0 - (20 \text{ m/s})^2 = 2a \times 20 \text{ m}$</p> <p>$a = -\frac{400}{40} \text{ m/s}^2 = -10 \text{ m/s}^2$</p> <p>(ب) $v = at + v_0 \rightarrow 0 = -10 \text{ (m/s}^2\text{)}t + 20 \text{ m/s} \rightarrow t = 2 \text{ s}$</p> <p>(پ) $F - f_k = ma \rightarrow \mathcal{K} - f_k = -10 \text{ (m/s}^2\text{)}m \rightarrow f_k = -10 \text{ m(N)}$</p>	<p>۷. راننده خودرویی که با سرعت 72 km/h در یک مسیر مستقیم در حال حرکت است، با دیدن مانعی اقدام به ترمز می کند و خودرو پس از طی مسافت 20 m متوقف می شود.</p> <p>الف) شتاب خودرو در مدت ترمز چقدر است؟</p> <p>ب) از لحظه ترمز تا توقف کامل خودرو، چقدر طول می کشد؟</p> <p>پ) نیروی اصطکاک بین لاستیک ها و سطح چقدر است؟</p>	<p>۲۵</p>
<p>فرض می کنیم شخصی به وزن 500 N از بالگرد به بیرون می پرد. بعد از پریدن چترباز، سرعت اولیه آن بسیار نا چیز است و تندی و مقاومت هوا افزایش می یابد.</p> <p>در لحظه ترک از بالگرد $v \approx 0$ $f = 0$</p> <p>در چند ثانیه $f = 100 \text{ N}$ $v = 3 \text{ m/s}$</p> <p>بعد از گذشت ثانیه ها بیشتر $f = 400 \text{ N}$ $v = 50 \text{ m/s}$</p> <p>(۱) $\bar{w} = 500 \text{ N}$</p> <p>(۲) $\bar{w} = 500 \text{ N}$</p> <p>(۳) $\bar{w} = 500 \text{ N}$</p> <p>پس از مدتی مقاومت هوا با وزن چترباز برابر شده و نیروی خالص وارد بر چترباز صفر می شود و چترباز با تندی ثابتی به طرف زمین حرکت می کند.</p>	<p>۸. چتربازی از یک بالگرد تقریباً ساکن که در ارتفاع نسبتاً زیادی قرار دارد، به بیرون می پرد و پس از مدتی چتر خود را باز می کند و در امتداد قائم سقوط می کند. حرکت چترباز را از لحظه پرش تا رسیدن به زمین تحلیل کنید و نموداری تقریبی از تندی آن بر حسب زمان رسم کنید.</p>	<p>۲۶</p>

باز کرد چتر

(۵) $f = 2000 \text{ N}$
 $v = 6 \text{ m/s}$
 $|\bar{w}| = 500 \text{ N}$

خیلی سریع

(۴) $f = 500 \text{ N}$
 $v = 60 \text{ m/s}$
 $|\bar{w}| = 500 \text{ N}$

در این حالت چتر باز چتر را باز می کند. که باعث افزایش نیروی مقاومت هوا خواهد شد.

در نهایت نیروی مقاومت کاهش یافته و برابر سرعت وزن خواهد شد و جسم با تندی کم تر به زمین می رسد.

چند ثانیه کفایت

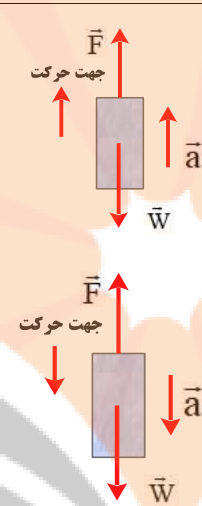
(۶) $f = 500 \text{ N}$
 $v = 2 \text{ m/s}$
 $|\bar{w}| = 500 \text{ N}$

باز شدن چتر

سرعت حدی سقوط آزاد

سرعت حدی

<p>(الف)</p> $\vec{F}_{net} = m\vec{a}$ $F_N - F_\gamma - W = ma = 0 \rightarrow F_N = F_\gamma + W$ <p>با افزایش F_γ، نیروی عمودی سطح وارد بر جعبه افزایش می یابد.</p>  <p>(ب)</p> $F_\gamma - F_s = ma = 0 \rightarrow F_\gamma = F_s$ <p>تغییر نمی کند.</p> <p>(پ)</p> $f_{s,max} = \mu_s F_N \rightarrow f_{s,max} = \mu_s (F_\gamma + W)$ <p>با افزایش F_γ، $f_{s,max}$ مقدار افزایش می یابد.</p> <p>(ت) نیروی خالص وارد بر جسم در راستای X و Y صفر است. چون جسم در این دو راستا حرکتی ندارد.</p>	<p>۴. در شکل زیر، نیروی F_γ به بزرگی 20 N بر جعبه وارد شده است، اما جعبه همچنان ساکن است. اگر در همین حالت بزرگی نیروی قائم \vec{F}_2 که جعبه را به زمین می فشارد از صفر شروع به افزایش کند، کمیت های زیر چگونه تغییر می کنند؟</p> <p>(الف) اندازه نیروی عمودی سطح وارد بر جعبه</p> <p>(ب) اندازه نیروی اصطکاک ایستایی وارد بر جعبه</p> <p>(پ) اندازه بیشینه نیروی اصطکاک ایستایی</p> <p>(ت) نیروی خالص وارد بر جسم</p>	<p>۲۷</p>
<p>(الف)</p> $\vec{F}_{net} = m\vec{a} \rightarrow F = ma$ $\rightarrow F = (5/0 \cdot \text{kg})(2 \frac{\text{m}}{\text{s}^2}) = 10 \text{ N}$ <p>(ب)</p> $\vec{F}_{net} = m\vec{a} \rightarrow F - F_k = ma$ $\rightarrow F - \mu_k W = ma$ $F - (0/20)(5/0 \cdot \text{kg})(9/8 \frac{\text{N}}{\text{kg}}) = (5/0 \cdot \text{kg})(2 \frac{\text{m}}{\text{s}^2})$ $\rightarrow F - (9/8 \text{ N}) = 10 \text{ N} \rightarrow F = 19/8 \text{ N}$ 	<p>۱۰. می خواهیم به جسمی که جرم آن $5/0 \text{ kg}$ است، شتاب $2/0 \text{ m/s}^2$ بدهیم. در هر یک از حالت های زیر، نیروی را که باید به جسم وارد کنیم محاسبه کنید.</p> <p>(الف) جسم روی سطح افقی بدون اصطکاک حرکت کند.</p> <p>(ب) جسم روی سطح افقی با ضریب اصطکاک $0/20 = 2/0$ به طرف راست حرکت کند، و شتابش نیز به طرف راست باشد.</p> <p>(پ) جسم در راستای قائم با شتاب رو به بالا شروع به حرکت کند.</p> <p>(ت) جسم در راستای قائم با شتاب رو به پایین شروع به حرکت کند.</p>	<p>۲۸</p>

<p>(ب)</p> $\vec{F}_{\text{net}} = m\vec{a} \rightarrow F - W = ma \rightarrow F - mg = ma$ $F - (\Delta / \text{kg})(9/8 \frac{\text{N}}{\text{kg}}) = (\Delta / \text{kg})(2/ \frac{\text{m}}{\text{s}^2})$ $\rightarrow F - (49 \text{ N}) = 10 \text{ N} \rightarrow F = 59 \text{ N}$ <p>(ت)</p> $W - F = ma \rightarrow mg - F = ma$ $(\Delta / \text{kg})(9/8 \frac{\text{N}}{\text{kg}}) - F = (\Delta / \text{kg})(2/ \frac{\text{m}}{\text{s}^2})$ $\rightarrow (49 \text{ N}) - F = 10 \text{ N} \rightarrow F = 39 \text{ N}$ 	
<p>(الف)</p> $\vec{F}_{\text{net}} = m\vec{a} \rightarrow -f_k = ma \rightarrow -\mu_k F_N = ma$ $-\mu_k mg = ma \rightarrow a = -\mu_k g$ $a = -(0/2)(9/8 \frac{\text{N}}{\text{kg}}) = -1/96 \frac{\text{N}}{\text{kg}}$ <p>جسم متوقف شده است، بنابراین $V = 0$ است.</p> $V^f - V_0^f = \tau a \Delta x$ $0 - (10 \frac{\text{m}}{\text{s}})^2 = 2(-1/96 \text{ N/kg})\Delta x \rightarrow \Delta x = 25/51 \text{ m}$	<p> قطعه چوبی را با سرعت افقی 10 m/s روی سطحی افقی برتاب می‌کنیم. ضریب اصطکاک جنبشی بین چوب و سطح $0/2 =$ است.</p> <p>الف) چوب پس از بيمودن چه مسافتی می‌ایستد؟</p> <p>ب) اگر از یک قطعه چوب دیگر استفاده کنیم که جرم آن دو برابر جرم قطعه چوب اول و ضریب اصطکاک جنبشی آن با سطح افقی با اولی یکسان باشد و با همان سرعت برتاب شود، مسافت بيموده شده آن چند برابر می‌شود؟</p>

$$F - mg = 0 \rightarrow k\Delta L = mg$$

$$\rightarrow 20 \text{ (N/cm)} (L_1 - 12 \text{ cm}) = 2 \text{ kg} \times (9.8 \text{ N/kg})$$

$$\rightarrow L_1 = 12/98 \text{ cm}$$

$$F - mg = 0 \rightarrow k\Delta L = mg$$

$$\rightarrow 20 \text{ (N/cm)} (L_2 - 12 \text{ cm}) = 2 \text{ kg} \times (9.8 \text{ N/kg})$$

$$\rightarrow L_2 = 12/98 \text{ cm}$$

$$F - mg = -ma \rightarrow k\Delta L = m(g - a)$$

$$\rightarrow 20 \text{ (N/cm)} (L_3 - 12 \text{ cm}) = 2 \text{ kg} \times [(9.8 - 2) \text{ N/kg}]$$

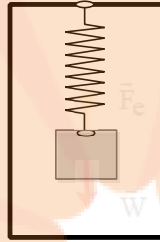
$$\rightarrow L_3 = 12/78 \text{ cm}$$

$$F - mg = ma \rightarrow k\Delta L = m(g + a)$$

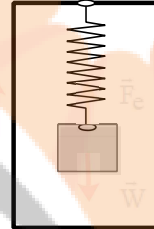
$$\rightarrow 20 \text{ (N/cm)} (L_4 - 12 \text{ cm}) = 2 \text{ kg} \times [(9.8 + 2) \text{ N/kg}]$$

$$\rightarrow L_4 = 13/18 \text{ cm}$$

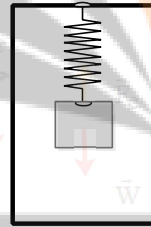
(الف)



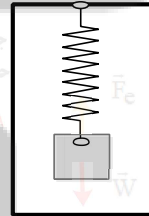
(ب)



(پ)



(ت)


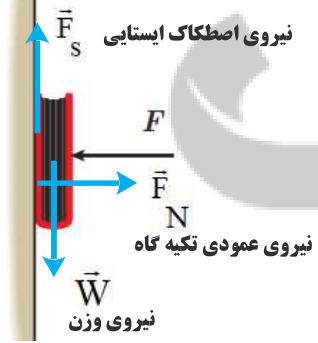


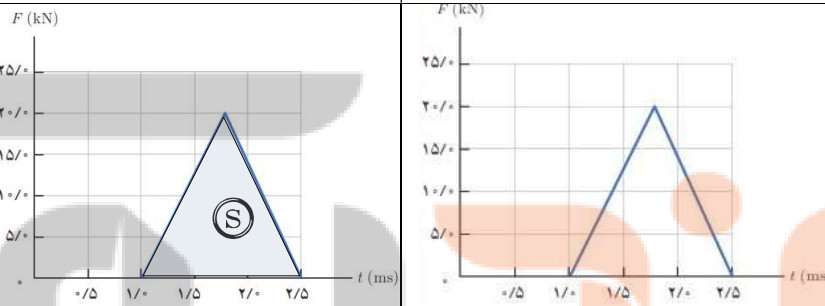
۱۱. وزنه‌ای به جرم 2 kg را به انتهای فنری به طول 12 cm که ثابت آن 20 N/cm است می‌بندیم و فنر را از سقف یک آسانسور آویزان می‌کنیم. طول فنر را در حالت‌های زیر محاسبه کنید. الف) آسانسور ساکن است.



ب) آسانسور با سرعت ثابت 2 m/s رو به پایین در حرکت است.

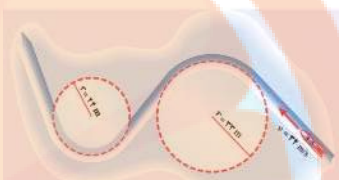

پ) آسانسور با شتاب ثابت 2 m/s^2 از حال سکون رو به پایین شروع به حرکت کند.

ت) آسانسور با شتاب ثابت 2 m/s^2 از حال سکون رو به بالا شروع به حرکت کند.

<p>الف) زمان واکنش و تندی خودرو</p> <p>(ب)</p> $\Delta x = vt \rightarrow 18m = v \times 0.6s \rightarrow v = 30m/s$ <p>(پ)</p> $x = \left(\frac{v + v_0}{2}\right)t = \left(\frac{0 + 30m/s}{2}\right) \times 0.6s \rightarrow 9m$ <p>(ت)</p> $a = \frac{v - v_0}{t} = \frac{0 - 30m/s}{0.6s} \rightarrow a = -50m/s^2$ $F_{net} = ma \rightarrow F_{net} = 1500kg \times -50(N/kg) \rightarrow F_{net} = -75000N$	<p>۱۳۳. برای یک راننده دانستن کل مسافت توقف خودرو اهمیت دارد. همان طور که شکل نشان می دهد کل مسافت توقف، دو قسمت دارد: مسافت واکنش (مسافتی که خودرو از لحظه دیدن مانع تا ترمز گرفتن طی می کند) و مسافت ترمز (مسافتی که خودرو از لحظه ترمز گرفتن تا توقف کامل طی می کند).</p> <p>الف) دو عامل مؤثر در مسافت واکنش را بنویسید.</p> <p>ب) زمان واکنش راننده ای ۰/۶s است. در طی این زمان، خودرو مسافت ۱۸m را طی می کند. با فرض ثابت بودن سرعت در این مدت، اندازه آن را حساب کنید.</p> <p>ب) اگر در این سرعت راننده ترمز کند و خودرو پس از ۵/۰s متوقف شود، مسافت ترمز و شتاب خودرو را حساب کنید.</p> <p>ت) وقتی خودرو ترمز می کند، نیروی خالص وارد بر آن چقدر است؟ جرم خودرو را ۱۵۰۰kg فرض کنید.</p>	<p>۳۱</p>
 <p>نیروی خالص عمودی حاصل از سطح زمین \vec{F}_N</p> <p>نیروی کشش \vec{T}</p> <p>نیروی اصطکاک \vec{f}_k</p> <p>نیروی مقاومت هوا \vec{f}</p> <p>نیروی وزن \vec{W}</p> <p>الف) $T - f_k - f = ma = 0 \rightarrow T = f_k + f = 380N + 220N = 600N$</p> <p>ب) $T' - f_k - f = ma \rightarrow T' = 2(N/kg) \times 1500kg + 600N = 3600N$</p>	<p>۱۳۴. یک خودروی باری با طناب افقی محکمی، یک خودروی سواری به جرم $1500kg$ را می کشد. نیروی اصطکاک و مقاومت هوا در مقابل حرکت خودروی سواری $220N$ و $280N$ است.</p> <p>الف) اگر سرعت خودرو ثابت بماند نیروی کشش طناب چقدر است؟</p> <p>ب) اگر خودرو با شتاب ثابت $2/0m/s^2$ به طرف راست کشیده شود، نیروی کشش طناب چقدر است؟</p>	<p>۳۲</p>
 <p>نیروی اصطکاک ایستایی \vec{f}_s</p> <p>نیروی عمودی تکیه گاه \vec{F}_N</p> <p>نیروی وزن \vec{W}</p> <p>الف) $mg - f_s = ma = 0 \rightarrow f_s = mg$</p> <p>ب) $\rightarrow f_s = 2/5kg \times 9/8N/kg = 24/5N$</p> <p>پ) خیر - نیروی اصطکاک تغییری نمی کند.</p> <p>$F_N - F = 0 \rightarrow F = F_N$</p>	<p>۱۳۵. کتابی را مانند شکل با نیروی عمودی F به دیوار قائمی فشرده و ثابت نگه داشته ایم.</p> <p>الف) نیروهای وارد بر کتاب را رسم کنید.</p> <p>ب) اگر جرم کتاب $2/5kg$ باشد، اندازه نیروی اصطکاک را به دست آورید.</p> <p>ب) اگر کتاب را بیشتر به دیوار بزنیم، آیا نیروی اصطکاک تغییر می کند؟ با این کار چه نیروهایی افزایش می یابد؟</p>	<p>۳۳</p>

		۲-۳ تکانه و قانون دوم نیوتون
$k = \frac{1}{2}mv^2$ $P = mv \rightarrow v = \frac{P}{m}$ $\rightarrow k = \frac{1}{2}m\left(\frac{P}{m}\right)^2 \rightarrow k = \frac{P^2}{2m}$	<p>تمرین ۲-۷</p> <p>نشان دهید بین اندازه تکانه (p) و انرژی جنبشی (K) جسمی به جرم m، رابطه $K = \frac{p^2}{2m}$ برقرار است.</p>	۳۴
<p>(الف)</p> $\Delta P = m\Delta v = m(v_f - v_i)$ $\Delta P = 0.28 \text{ kg} \times (-22 \text{ m/s} - 15 \text{ m/s})$ $\Delta P = -10.36 \text{ kgm/s}$ <p>(ب)</p> $\bar{F} = \frac{\Delta P}{\Delta t} = \frac{-10.36 \text{ kgm/s}}{0.06 \text{ s}} = -172.6 \text{ N}$	<p>۲-۳ تکانه و قانون دوم نیوتون</p> <p>۱۷. توپی به جرم 28 g با تندی 15 m/s به طور افقی به بازیکنی نزدیک می شود. بازیکن با مشت به توپ ضربه می زند و باعث می شود توپ با تندی 22 m/s در جهت مخالف برگردد.</p> <p>(الف) اندازه تغییر تکانه توپ را محاسبه کنید.</p> <p>(ب) اگر مشت بازیکن 0.06 s با توپ در تماس باشد، اندازه نیروی متوسط وارد بر مشت بازیکن از طرف توپ را به دست آورید.</p>	۳۵
$S_{(F-t)} = \Delta P$ $S_{(F-t)} = \frac{1}{2}(2/5 \text{ s} - 1/5 \text{ s}) \times 10^{-3} \times 20 \times 10^3 \text{ N}$ $S_{(F-t)} = \Delta P = 15 \text{ N.s}$ $\bar{F} = \frac{\Delta P}{\Delta t} = \frac{15 \text{ N.s}}{1/5 \times 10^{-3} \text{ s}} = 10000 \text{ N}$	<p>۱۷. شکل زیر، منحنی نیروی خالص بر حسب زمان را برای توپ بیسبالی که با چوب بیسبال به آن ضربه زده شده است، نشان می دهد. تغییر تکانه توپ و نیروی خالص متوسط وارد بر آن را به دست آورید.</p> 	۳۶

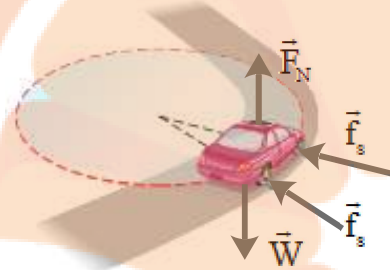
	۲-۴ حرکت دایره ای یکنواخت	
<p>زیرا در حرکت دایره ای یکنواخت، تندى متحرک در بازه های زمانی برابر، ثابت است. پس مسافت های یکسانی را طی می کند.</p>	<p>پرسش ۸-۲</p> <p>چرا در حرکت دایره ای یکنواخت، ذره در بازه های زمانی برابر، مسافت های یکسانی را طی می کند؟</p>	۳۷
<p>$T_{\text{ثانیه}} = 60 \text{ S}$ $T_{\text{دقیقه}} = 1 \text{ h} = 60 \text{ min} = 3600 \text{ S}$ $T_{\text{ساعت}} = 12 \text{ h} = 720 \text{ min} = 43200 \text{ S}$</p>	<p>پرسش ۹-۲</p> <p>دوره عقربه ثانیه شمار، دقیقه شمار و ساعت شمار یک ساعت عقربه ای چیست؟</p> 	۳۸
<p>$T = \frac{t}{N} = \frac{1 \text{ min}}{5} = \frac{60 \text{ s}}{5} = 12 \text{ s}$ $N' = \frac{t}{T} = \frac{3 \text{ s}}{12 \text{ s}} = \frac{1}{4}$ مسافت طی شده $= \frac{1}{4} (2\pi r)$</p> <p>مسافت فرد شماره (۱) $r_1 = 1 \text{ m} \rightarrow L_1 = \frac{1}{4} \pi r_1 = \frac{1}{4} \times 3/14 \times 1 \text{ m} = 1/57 \text{ m}$</p> <p>مسافت فرد شماره (۲) $r_2 = 1 \text{ m} \rightarrow L_2 = \frac{1}{4} \pi r_2 = \frac{1}{4} \times 3/14 \times 2 \text{ m} = 3/14 \text{ m}$</p> <p>مسافت فرد شماره (۳) $r_3 = 3 \text{ m} \rightarrow L_3 = \frac{1}{4} \pi r_3 = \frac{1}{4} \times 3/14 \times 3 \text{ m} = 4/71 \text{ m}$</p>	<p>مثال ۱۵-۲</p> <p>یک دیسک گردان در شهر بازی را در نظر بگیرید که توسط یک موتور الکتریکی در هر دقیقه ۵۰۰ دور می چرخد. فرض کنید افرادی در فاصله های ۱/۰ m، ۲/۰ m و ۳/۰ m از مرکز آن قرار دارند. تندى این افراد را به دست بیاورید و با هم مقایسه کنید.</p> <p>تمرین ۸-۲</p> <p>مسافتی را که هر یک از افراد در مثال بالا در مدت ۳/۰ s طی کرده اند محاسبه کنید.</p> 	۳۹
<p>$v = \frac{2\pi r}{T}$ $a = \frac{v^2}{r}$</p> <p>$\rightarrow a = \frac{1}{r} \left(\frac{2\pi r}{T} \right)^2 = \frac{4\pi^2 r}{T^2}$</p>	<p>پرسش ۱۰-۲</p> <p>نشان دهید در حرکت دایره ای یکنواخت، شتاب مرکزگرا از رابطه $a_c = \frac{4\pi^2 r}{T^2}$ نیز به دست می آید که در آن T و r به ترتیب دوره تناوب و شعاع دایره است.</p> <p>هکتل ۶-۳۳</p>	۴۰

$r_1 = 33\text{m} \rightarrow a = \frac{v^2}{r_1} = \frac{(34\text{m/s})^2}{33\text{m}} = 35/0.3 \text{ m/s}^2$ $r_2 = 24\text{m} \rightarrow a = \frac{v^2}{r_2} = \frac{(34\text{m/s})^2}{24\text{m}} = 48/16 \text{ m/s}^2$	<p>تمرین ۹-۲</p>  <p>شکل رویه و مسیر حرکت سوارتهای را در مسابقه المپیک زمستانی نشان می دهد. سوارته روی یک سطح افقی در حال حرکت است. اگر تندی حرکت سوارته در کل مسیر ۳۴m/s باشد، شتاب مرکزگرای آن را در هر یک از پیچ ها به دست آورید.</p>
$F_y = 0 \rightarrow N - mg = 0 \rightarrow N = mg$ $F = f_s = \mu_s N = \mu_s mg$ $F = m \frac{v^2}{r}$ $\left. \begin{array}{l} F = f_s = \mu_s mg \\ F = m \frac{v^2}{r} \end{array} \right\} \rightarrow \mu_s mg = m \frac{v^2}{r} \rightarrow v^2 = \mu_s rg$ $v = \sqrt{\mu_s rg} \rightarrow v = \sqrt{1 \times 50 \cdot \text{m} \times 9/8 \text{ m/s}^2} = 22/13 \text{ m/s}$	<p>تمرین ۱۰-۲</p>  <p>خودرویی به جرم 1500 kg را در نظر بگیرید که می خواهد در یک پیچ مسطح افقی به شعاع 50 m بدون آنکه بلغزد، دور بزند. اگر ضریب اصطکاک ایستایی بین لاستیک و سطح جاده $1/8$ باشد، حداکثر تندی خودرو چقدر می تواند باشد؟ (راهنمایی: با اینکه خودرو می خواهد یک چهارم دایره را طی کند، می توانیم خودرو را به صورت یک ذره در نظر بگیریم که در یک چهارم دایره، حرکت دایره ای یکنواخت دارد. در راستای عمود بر سطح، نیروی وزن و نیروی عمودی سطح بر خودرو وارد می شود و نیروی اصطکاک ایستایی که عمود بر راستای حرکت است، مانع از لغزش خودرو شده و به طرف مرکز پیچ، بر خودرو وارد می شود. این نیرو شتاب مرکزگرای لازم را برای دور زدن تأمین می کند.)</p>
$T = \frac{t}{N} = \frac{60\text{s}}{1000} = 0/06\text{s}$ <p>(الف)</p> $r_1 = 2\text{m} \rightarrow v_1 = \frac{2\pi r_1}{T} = \frac{2 \times 3/14 \times 2\text{m}}{0/06\text{s}} = 209/23 \text{ m/s}$ <p>(ب)</p> $r_2 = 4\text{m} \rightarrow v_2 = \frac{2\pi r_2}{T} = \frac{2 \times 3/14 \times 4\text{m}}{0/06\text{s}} = 418/66 \text{ m/s}$ <p>(پ)</p> $r_1 = 2\text{m} \rightarrow a_1 = \frac{v_1^2}{r_1} = \frac{(209/23 \text{ m/s})^2}{2\text{m}} = 21909/52 \text{ m/s}^2$ $r_2 = 4\text{m} \rightarrow a_2 = \frac{v_2^2}{r_2} = \frac{(418/66 \text{ m/s})^2}{4\text{m}} = 43819/04 \text{ m/s}^2$	<p>۱۱. پره های یک بالگرد در هر دقیقه، ۱۰۰۰ دور می چرخند. طول پره ها را $r = 4\text{m}$ فرض کنید و کمیت های زیر را برای پره ها محاسبه کنید.</p> <p>الف) دوره تناوب پره ها</p> <p>ب) تندی در وسط و نوک پره ها</p> <p>پ) شتاب مرکزگرا در وسط و نوک پره ها</p>

$$v = 54 \frac{\text{km}}{\text{h}} = 54 \times \frac{1}{3.6} \frac{\text{m}}{\text{s}} = 15 \text{ m/s}$$

$$\left. \begin{aligned} f_s &= \mu_s N = \mu_s mg \\ F &= m \frac{v^r}{r} \end{aligned} \right\} \rightarrow \mu_s mg = m \frac{v^r}{r}$$

$$\rightarrow \mu_s = \frac{v^r}{rg} = \frac{(15 \text{ m/s})^r}{9.8 (\text{m/s}^r) \times 50 \text{ m}} \approx 0.46$$



۱۹. حداقل ضریب اصطکاک ایستایی بین چرخ های خودرو و سطح جاده چقدر باشد تا خودرو بتواند با تندی ۵۴ km/h بیچ افقی مسطحی را که شعاع آن ۵۰m است، دور بزند؟

۴۴

نشانچه بوک

تلاشی در مسیر موفقیت

۵-۲ نیروی گرانشی

فعالیت ۵-۲

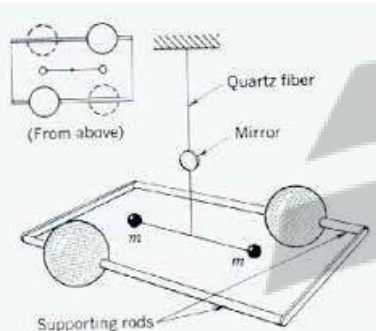
ثابت گرانشی G را اولین بار هنری کاوندیش^۱ در سال ۱۷۹۸ اندازه‌گیری کرد. در مورد روش اندازه‌گیری G توسط هنری کاوندیش تحقیق کنید و نتیجه را به کلاس گزارش دهید.

ترازوی کاوندیش وسیله‌ای است که برای بررسی تجربی قانون جهانی گرانش نیوتن بکار می‌رود. نیوتن قانون گرانش خود بیان می‌کند که هر گاه دو ذره به جرم‌های m_1 ، m_2 به فاصله r از یکدیگر قرار گیرند، این دو نیرو جاذبه‌ای بر یکدیگر وارد می‌کنند که این نیرو با حاصل ضرب اندازه دو جرم نسبت مستقیم و با مجذور فاصله بین آنها نسبت عکس دارد. اما این تناسب را می‌توان تعریف یک ثابت تناسب در تساوی تبدیل نمود. این ثابت را ثابت جهانی گرانش می‌گویند. برای تعیین مقدار ثابت جهانی گرانش که آن را با G نمایش می‌دهیم، باید نیروی جاذبه میان دو جرم را اندازه‌گیری کنیم.

قسمتهای مختلف ترازوی کاوندیش

دو گلوله به جرم m

دو گلوله کوچک هر یک جرم m ، به دو انتهای یک میله سبکی متصل می‌شوند. این میله، دمبل صلبی است که محورش افقی است و توسط یک رشته نازک قائم آویزان شده است.



دو گلوله بزرگ به جرم M

دو گلوله بزرگ هر کدام به جرم M ، که در نزدیک دو سر دمبل و در دو طرف مخالف قرار داده شده‌اند. این دو گلوله نیز بر روی یک میله افقی قرار گرفته‌اند و نقطه وسط این میله بر روی تکیه‌گاهی قرار گرفته است، به گونه‌ای که می‌تواند آزادانه بچرخد. نقطه وسط این میله درست در راستای مرکز دمبل و در زیر آن قرار دارد.

آینه کوچک

این آینه کوچک بر روی رشته نازک و کمی بالاتر از دمبل قرار دارد. از طریق یک چشمه نور، بر این آینه نور تابیده می‌شود، نور منعکس شده از آینه بر روی یک مقیاس شیشه‌ای می‌افتد و به این وسیله میزان انحراف آینه (یا زاویه چرخش) آن قابل اندازه‌گیری است.

شرح کار ترازوی کاوندیش

هر گاه میله‌ای که دو جرم بزرگ m بر روی آن قرار گرفته‌اند، جرمهای بزرگ M در نزدیکی جرمهای کوچک m قرار گیرند، در این صورت بر اساس قانون جهانی گرانش نیوتن، بر گلوله‌های کوچک نیرو

جاذبه‌ای وارد می‌شود، این امر باعث چرخیدن دمبل و در نتیجه تاب خوردن رشته نازک و چرخش آینه می‌شود. با استفاده از شیشه مدرج می‌توان میزان انحراف آینه (زاویه α) را هنگام چرخش گلوله‌های کوچک اندازه‌گیری نمود.

اندازه‌گیری G

ثابت G به کمک روش انحراف بیشینه تعیین می‌شود، همانطور که در طرز ترازو گفته شود میله بر اثر گرانش گلوله‌های بزرگ حول نقطه آویز می‌چرخد. در حین چرخش با گشتاور نیروها مخالفت می‌کند، زاویه پیچش رشته هنگام حرکت گلوله‌ها از موضعی به موضع دیگر با مشاهده انحراف باریکه بازتابیده از آینه کوچک متصل به رشته اندازه‌گیری شود (تصویر رشته لامپ توسط آینه متصل به m و m روی خط کش مدرج می‌افتد و در نتیجه هر گونه دوران m و m قابل اندازه‌گیری است).

اگر جرمها و فاصله میان آنها و نیز ثابت پیچش رشته معلوم باشد، می‌توانیم G را از روی زاویه پیچش اندازه‌گیری شده محاسبه کنیم. چون نیروی جاذبه کم است اگر بخواهیم پیچش قابل مشاهده‌ای داشته باشیم باید ثابت پیچش رشته فوق العاده کوچک باشد. در این ترازو جرمها مسلماً ذره نیستند، بلکه اجسامی بزرگ هستند، اما چون این جرمها کره‌های یکنواختی هستند از لحاظ گرانشی طوری عمل می‌کنند که گویی تمام جرم آنها در مرکزشان متمرکز شده است. چون G بسیار کوچک است نیروهای گرانشی میان اجسام بر روی سطح زمین فوق العاده کوچک هستند و می‌توان از آنها صرف‌نظر کرد.

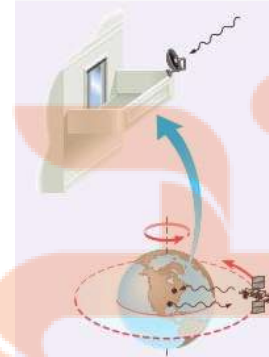
$$\left. \begin{aligned} F &= G \frac{M_e m}{r^2} \\ F &= \frac{mV^2}{r} \end{aligned} \right\} \rightarrow r^3 = \frac{GM_e T^2}{4\pi^2} \quad (\text{الف})$$

$$r^3 = \frac{(6/67 \times 10^{-11} \text{ N.m}^2 / \text{kg}^2) (5/98 \times 10^{24} \text{ kg}) (86400 \text{ s})^2}{4 \times (3/14)^2}$$

$$\rightarrow r = 42/26 \times 10^6 \text{ m}$$

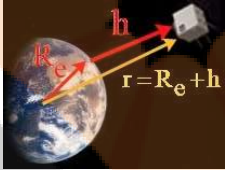
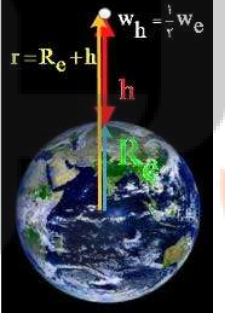
$$v = \frac{2\pi r}{T} = \frac{2 \times 3/14 \times 42/26 \times 10^6 \text{ m}}{86400 \text{ s}} = 3000 \text{ m/s} \quad (\text{ب})$$


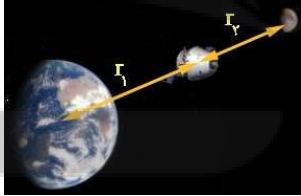
تمرین ۲-۱۱



مدار هنگام با زمین^۱ و ماهواره‌های مخابراتی: از دیدگاه مخابراتی، باقی ماندن ماهواره در یک محل نسبت به مکانی در روی زمین (مثلاً بالای ایران) امتیاز محسوب می‌شود. این در صورتی رخ می‌دهد که دوره گردش ماهواره به دور زمین با مدت زمان یک دور چرخش زمین به دور خودش، یعنی $24/0$ h یکسان باشد. (الف) در چه فاصله‌ای از زمین می‌توان این مدار هنگام با زمین را یافت؟ (ب) تندی مداری این ماهواره چقدر است؟

$\left. \begin{aligned} F &= G \frac{M_e m}{r^2} \\ F &= \frac{mV^2}{r} \end{aligned} \right\} \rightarrow G \frac{M_e m}{r^2} = \frac{m \left(\frac{2\pi r}{T} \right)^2}{r} \rightarrow G \frac{M_e}{r^2} = \frac{4\pi^2 r}{T^2} \rightarrow$ $T^2 = \left(\frac{4\pi^2}{GM_e} \right) r^3 \rightarrow T^2 \propto r^3$	<p>پرسش ۱۱-۲</p> <p>نشان دهید مربع دوره گردش ماهواره‌ها به دور زمین متناسب با مکعب فاصله ماهواره از مرکز زمین است.</p>	۴۷
$\left. \begin{aligned} F &= G \frac{M_e m}{r^2} \\ F &= mg_h \end{aligned} \right\} \rightarrow G \frac{M_e m}{r^2} = mg_h \rightarrow g_h = G \frac{M_e}{(R_e + h)^2}$ $\rightarrow g_h = G \frac{M_e}{(R_e + h)^2} \xrightarrow{h=0} g = G \frac{GM_e}{R_e^2}$	<p>تمرین ۱۲-۲</p> <p>نشان دهید شتاب گرانشی روی زمین برابر است با: $g = G \frac{M_e}{R_e^2}$</p>	۴۸
<p>(الف)</p> $\left. \begin{aligned} F &= G \frac{M_e m}{r^2} \\ F &= \frac{mV^2}{r} \end{aligned} \right\} \rightarrow G \frac{M_e m}{r^2} = \frac{mv^2}{r} \rightarrow v^2 = G \frac{M_e}{r}$ $\rightarrow (7560 \text{ m/s})^2 = \frac{6.67 \times 10^{-11} \text{ Nm}^2/\text{kg}^2 \times 5.98 \times 10^{24} \text{ kg}}{r}$ $r = 6979000 \text{ m} = 6979 \text{ km}$ $\rightarrow h = r - R_e \rightarrow h = 6979 \text{ km} - 6380 \text{ km} = 599 \text{ km}$ <p>(ب)</p> $\frac{w_h}{w_{R_e}} = \frac{G \frac{M_e}{r^2}}{G \frac{M_e}{R_e^2}} = \left(\frac{R_e}{r} \right)^2 \rightarrow \frac{w_h}{w_{R_e}} = \left(\frac{6380 \text{ km}}{6979 \text{ km}} \right)^2 = 0.8357$	<p>تمرین ۱۳-۲</p> <p>تلسکوپ فضایی هابل با تندی 7560 m/s گرد زمین می‌چرخد. الف) فاصله این تلسکوپ از سطح زمین چند کیلومتر است؟ ب) وزن این تلسکوپ در این ارتفاع چند برابر وزن آن روی زمین است؟ پ) دوره تناوب این تلسکوپ را پیدا کنید. ($R_e = 6380 \text{ km}$)</p>	۴۹

$T = \frac{2\pi r}{v} \rightarrow T = \frac{2 \times 3.14 \times 6979000 \text{ m}}{7560 \text{ m/s}} = 5797 / 37 \text{ s}$ <p>(پ)</p>	
$F = G \frac{M_e m}{r^2} \rightarrow 10^{-8} \text{ N} = \frac{6.67 \times 10^{-11} \text{ Nm}^2 / \text{kg}^2 \times 50 \text{ kg} \times m}{(2m)^2} \rightarrow m = 1199 \text{ kg}$	<p>۵۰. دو جسم در فاصله $r = 2 \text{ m}$ از هم، یکدیگر را با نیروی گرانشی کوچک 10^{-8} N جذب می کنند. اگر جرم یکی از اجسام 50 kg باشد، جرم جسم دیگر چقدر است؟</p>
<p>(الف)</p>  $F = G \frac{M_e m}{r^2}$ $F = \frac{6.67 \times 10^{-11} \text{ Nm}^2 / \text{kg}^2 \times 60 \text{ kg} \times 5 / 98 \times 10^{24} \text{ kg}}{(2800 \times 10^3 \text{ m} + 6400 \times 10^3 \text{ m})^2}$ $F = 2827 / 5 \text{ N}$ <p>(ب)</p> $F = ma \rightarrow 2827 / 5 \text{ N} = 60 \text{ kg} \times a \rightarrow a = 4 / 71 \text{ m/s}^2$ <p>(پ)</p> $a = \frac{v^2}{r} \rightarrow v = \sqrt{4 / 71 (\text{m/s}^2) \times 9200 \times 10^3 \text{ m}}$ $v = 6584 / 45 \text{ m/s}$ <p>(ت)</p> $T = \frac{2\pi r}{v} = \frac{2 \times 3.14 \times 9200 \times 10^3 \text{ m}}{6584 / 45 \text{ m/s}} = 8774 / 61 \text{ s}$	<p>۵۱. ماهواره ای به جرم 60 kg در مداری دایره ای به ارتفاع 2800 کیلومتر از سطح زمین، به دور آن می چرخد. (الف) نیروی گرانشی وارد بر ماهواره (ب) شتاب ماهواره (ب) تندی ماهواره (ت) دوره تناوب ماهواره را در این ارتفاع به دست آورید. ($M_e = 5 / 98 \times 10^{24} \text{ kg}$ و $R_e = 6400 \text{ km}$)</p>
<p>(الف)</p>  $\frac{w_h}{w_{R_e}} = \left(\frac{R_e}{R_e + h} \right)^2 \rightarrow \frac{1}{2} = \left(\frac{R_e}{R_e + h} \right)^2$ $\rightarrow \sqrt{2} R_e = R_e + h \rightarrow h = (\sqrt{2} - 1) R_e = 0.41 R_e$	<p>۵۲. الف) در چه ارتفاعی از سطح زمین، وزن یک شخص به نصف مقدار خود در سطح زمین می رسد؟ (ب) اگر جرم ماهواره ای 25 kg باشد، وزن آن در ارتفاع 36000 کیلومتری از سطح زمین چقدر خواهد شد؟</p>

$F = G \frac{M_e m}{r^2}$ $F = \frac{6/67 \times 10^{-11} \text{ Nm}^2 / \text{kg}^2 \times 25 \cdot \text{kg} \times 5/98 \times 10^{24} \text{ kg}}{(36000 \times 10^3 \text{ m} + 6400 \times 10^3 \text{ m})^2}$ $F = 55/467 \text{ N}$	
<p>(الف)</p>  $g_{R_{e1}} = \frac{GM_s}{R_1^2} = \frac{6/67 \times 10^{-11} \text{ Nm}^2 / \text{kg}^2 \times 1/99 \times 10^{25} \text{ kg}}{(149/6 \times 10^6 \times 10^3 \text{ m})^2}$ $g_{R_{e1}} = 5/93 \times 10^{-7} \text{ N/kg}$ <p>(ب)</p> $g_{R_{er}} = \frac{GM_m}{R_r^2} = \frac{6/67 \times 10^{-11} \text{ Nm}^2 / \text{kg}^2 \times 7/36 \times 10^{22} \text{ kg}}{(3/84 \times 10^5 \times 10^3 \text{ m})^2} = 3/33 \times 10^{-5} \text{ N/kg}$	<p>۵۳</p> <p>۵۳ الف) شتاب گرانشی ناشی از خورشید در سطح زمین چقدر است؟ ب) شتاب گرانشی ناشی از ماه در سطح زمین چقدر است؟ $M_{\text{خورشید}} = 1/99 \times 10^{25} \text{ kg}$ و $M_{\text{ماه}} = 7/36 \times 10^{22} \text{ kg}$ فاصله زمین تا خورشید $= 149/6 \times 10^6 \text{ km}$ فاصله زمین تا ماه $= 3/84 \times 10^5 \text{ km}$</p>
<p>(الف)</p>  $F_{em} = G \frac{M_e m}{r_1^2} \quad \& \quad F_{mm} = G \frac{M_m m}{r_2^2}$ $F_{\text{net}} = G \frac{M_e m}{r_1^2} - G \frac{M_m m}{r_2^2} = \frac{Gm}{r} (M_e - M_m)$ $r_1 = r_2 = r = \frac{1}{2} d = \frac{1}{2} \times 3/84 \times 10^5 \text{ km} = 1/92 \times 10^4 \text{ m}$ $F_{\text{net}} = \frac{6/67 \times 10^{-11} \text{ Nm}^2 / \text{kg}^2 \times 3 \times 10^4 \text{ kg}}{(1/92 \times 10^4 \text{ m})^2} (5/98 \times 10^{24} \text{ kg} - 7/36 \times 10^{22} \text{ kg})$ $F_{\text{net}} = 320/59 \text{ N}$	<p>۵۴</p> <p>۵۴ الف) سفینه‌ای به جرم $3/10 \times 10^4 \text{ kg}$ در وسط فاصله بین زمین و ماه قرار دارد. نیروی گرانشی خالصی را که از طرف زمین و ماه به این سفینه در این مکان وارد می‌شود به دست آورید (از داده‌های مسئله‌های قبل استفاده کنید). ب) در چه فاصله‌ای از زمین، نیروی گرانشی ماه و زمین بر سفینه، یکدیگر را خنثی می‌کنند؟ $M_{\text{خورشید}} = 1/99 \times 10^{25} \text{ kg}$ و $M_{\text{ماه}} = 7/36 \times 10^{22} \text{ kg}$ فاصله زمین تا خورشید $= 149/6 \times 10^6 \text{ km}$ فاصله زمین تا ماه $= 3/84 \times 10^5 \text{ km}$</p>

(ب)

$$F_{\text{net}} = G \frac{M_e m}{r_1^2} - G \frac{M_m m}{r_2^2} \rightarrow 0 = G \frac{M_e m}{r_1^2} - G \frac{M_m m}{r_2^2} \rightarrow \frac{M_e}{r_1^2} = \frac{M_m}{r_2^2}$$

$$r_1 + r_2 = d$$

$$\frac{M_e}{M_m} = \frac{r_1^2}{(d-r_1)^2} \rightarrow \frac{r_1}{(d-r_1)} = \sqrt{\frac{5/98 \times 10^{24} \text{ kg}}{7/36 \times 10^{22} \text{ kg}}} = 9$$

$$\rightarrow \frac{r_1}{d-r_1} = 9 \rightarrow r_1 = 9d - 9r_1 \rightarrow r_1 = 0.9d = 3/456 \times 10^6 \text{ m}$$

نزد نجه بوک

تلاشی در مسیر موفقیت

تلاشی در مسیر موفقیت




دانلود گام به گام تمام دروس ✓
دانلود آزمون های قلم چی و گاج + پاسخنامه ✓
دانلود جزوه های آموزشی و شب امتحانی ✓
دانلود نمونه سوالات امتحانی ✓

مشاوره کنکور ✓

فیلم های انگیزشی ✓

 Www.ToranjBook.Net

 [ToranjBook_Net](https://t.me/ToranjBook_Net)

 [ToranjBook_Net](https://www.instagram.com/ToranjBook_Net)